

1. <보기>의 (가)와 (나)는 민주정치의 참여방식이다. 이에 대한 설명으로 가장 옳지 않은 것은?

<보기>

- (가) 주권자인 국민은 선거를 통해 그들이 선출한 대표에게 국가 의사 및 정책의 결정권을 전적으로 위임한다.
(나) 대의제하에서는 국민의 다양한 의사를 정치과정에 투입하는 데 한계가 있다. 그러므로 국민투표, 국민발안, 국민 소환 제도를 도입하여 대의제를 보완한다.

- ① (가)의 정치방식은 민주주의에 부합하지 않는다.
② (나)는 (가)에 비해 정책결정의 정당성이 증진될 수 있다.
③ (가)는 모든 국민이 국가의 의사결정에 참여하는 것은 비현실적이라고 생각한다.
④ (나)의 정치방식은 시민의 정치적 무관심을 극복하려고 한다.

2. <보기>의 사례에 대한 법적 판단으로 가장 옳은 것은?

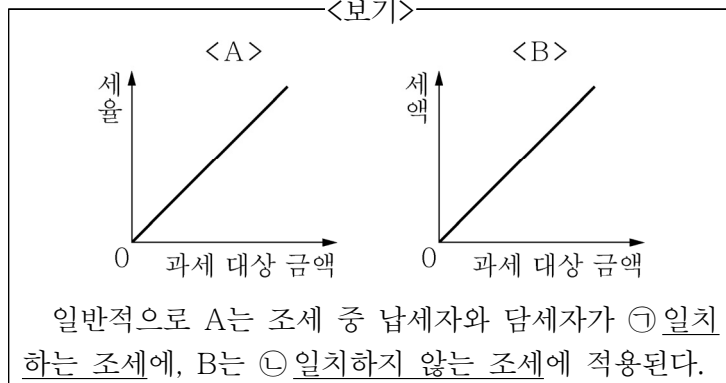
<보기>

갑(甲)과 을(乙)은 결혼한 후 아이가 생기지 않자, 병(丙)이 홀로 키우던 자녀 A와 B 중에서 A를 적법한 절차를 거쳐 친양자로 입양하였다. 이후 A를 키우던 중 갑과 을은 불화로 재판상 이혼을 하였고, 미성년 자녀인 A에 대한 양육권은 갑이 갖기로 하였다. 1년 뒤, 갑은 교통사고로 3억원의 재산과 1억원의 빚을 남기고 사망하였다.

- ① 갑과 을은 이혼할 때, 이혼 숙려 기간을 거쳤을 것이다.
② A가 받을 수 있는 갑의 상속액은 8천만원이다.
③ 병이 사망한 경우, 병의 법정 상속인은 B이다.
④ A는 갑과 을의 가족 관계 등록부에 양자로 기재된다.

3. <보기>는 서로 다른 과세 제도를 나타낸다. 이에 대한 설명으로 가장 옳지 않은 것은?

<보기>



- ① B는 조세부담의 역진성이 나타나 저소득층에게 불리하다.
② A는 경기 자동 안정화 장치로서의 기능을 한다.
③ ㉠은 ㉡에 비해 조세 징수 비용이 크다.
④ ㉡은 ㉠에 비해 소득 재분배 효과가 크다.

4. <보기>의 (가)~(라)에 해당하는 자료수집방법에 대한 설명으로 가장 옳지 않은 것은?

<보기>

- 다음은 근로자들의 생활실태와 의식에 관한 자료를 수집하기 위한 활동이다.
- (가) 근로자들의 수기 내용을 분석하여 근로자들의 의식을 파악한다.
- (나) 근로자들과의 대화를 통해 그들이 생각하는 바를 깊이 있게 조사한다.
- (다) 근로자들이 일하는 공장에서 함께 생활하면서 근로자들이 살아가는 모습을 관찰한다.
- (라) 근로자들이 생각하는 바를 알아보기 위해 질문지를 만들어 그들에게 답을 하도록 한다.

- ① (가)는 양적 연구와 질적 연구 모두에 활용된다.
② (나)와 (다)는 문맹자에게 사용하기 어렵다.
③ (나)는 (라)에 비해 자료수집과정에서 연구자의 유연성이 높다.
④ (나)와 (라)는 언어를 매개로 한 상호작용이 필수적이다.

5. <보기>의 근대화를 설명하는 이론 중 밑줄 친 ㉠, ㉡에 대한 설명으로 가장 옳지 않은 것은?

<보기>

우리나라의 사회 과학계에 영향을 끼쳤던 사회학자 갑(甲)은 낙후된 국가의 빈곤 문제를 ‘중속에 의한 저발전의 심화’라고 설명하며, 근대화를 설명하는 ㉠ 또 다른 이론에 도전장을 던졌다. ㉡ 갑의 이론은 서구 선진국에 의해 주도된 이론에 대한 비판 이론으로 주목을 받으며 등장했다. 1970년대 한국에도 유입되어 최근까지 연구가 진행되고 있다.

- ① ㉠은 사회 변동 방향에 대해 진화론을 기초로 한다.
② ㉡은 낙후된 국가의 저발전 원인을 외부에서 밝히고 있다.
③ ㉡은 ㉠과 비교하여 개별 국가의 주체적 발전을 더 강조한다.
④ ㉠은 ㉡과 달리 각 국가는 다양한 경로를 거쳐 발전할 수 있다고 본다.

6. <보기>는 질문 (가), (나)에 따라 경제 체제를 분류한 것이다. 이에 대한 설명으로 가장 옳은 것은? (단, A와 B는 각각 시장 경제 체제와 계획 경제 체제 중 하나이다.)

<보기>

	A	B
(가)	예	아니오
(나)	아니오	예

- ① A가 계획 경제 체제라면, (나)는 ‘기본적인 경제 문제가 발생하는가?’가 될 수 있다.
② A가 시장 경제 체제라면, (가)는 ‘정부의 계획에 의한 자원 배분을 강조하는가?’가 될 수 있다.
③ B가 시장 경제 체제라면, (가)는 ‘경쟁보다 형평성을 중시하는가?’가 될 수 있다.
④ (나)가 ‘시장 가격의 자원 배분 기능을 중시하는가?’이면, A는 B보다 경제적 유인체제를 강조한다.

7. <보기>의 밑줄 친 ㉠과 ㉡의 특징에 대한 설명으로 가장 옳지 않은 것은? (단, ㉠과 ㉡은 각각 관료제와 탈관료제 중 하나이다.)

<보기>

○○ 기업 경영 혁신 보고서

○○ 기업의 경우 구성원 간의 위계를 바탕으로 모든 업무에 있어 표준화된 업무 처리 지침을 갖추고 있는 등 ㉠ 안정적으로 관리되는 조직이지만, 다가올 4차 산업 혁명 시대에 발맞추어 보다 ㉡ 유연한 조직으로 개편하여 급변하는 기업 환경에 적극적으로 대처할 필요성이 있다.

- ① ㉠은 ㉡보다 중간 관리층의 역할이 크다.
- ② ㉠은 ㉡에 비해 구성원이 교체되어도 상대적으로 안정적인 과업 수행이 가능하다.
- ③ ㉡은 ㉠과 달리 과업 수행 과정에서 예측 가능성이 상대적으로 높다.
- ④ ㉡은 ㉠과 달리 승진에서 연공서열이 차지하는 비중이 상대적으로 낮다.

8. <보기>의 밑줄 친 ㉠, ㉡에 대한 설명 중 가장 옳은 것은?

<보기>

매달 A군은 1만엔을, B군은 100달러를 구입한다. ㉠ 원/엔 환율 변동과 ㉡ 원/달러 환율 변동으로 인해 A군과 B군이 각각 엔화와 달러화를 구입하기 위해 매달 지불해야 하는 원화의 양이 아래의 표와 같이 변화였다.

구분	변동 전	변동 후
A군	9만원	10만원
B군	11만원	10만원

- ① 엔화의 수요 감소는 ㉠의 요인이다.
- ② 달러화의 공급 감소는 ㉡의 요인이다.
- ③ ㉠은 우리나라 대일상품 수지를 개선시키는 요인이다.
- ④ ㉡은 우리나라 국민의 미국 유학 경비 부담을 증가시키는 요인이다.

9. <보기 1>의 A, B 선거구제의 특징에 대한 설명 중 옳은 것을 <보기 2>에서 모두 고르면?

<보기 1>

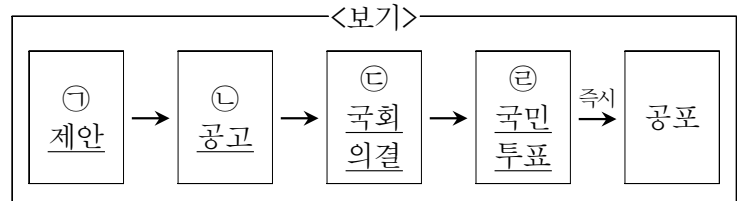
구분	A	B
내용	한 선거구에서 1명의 대표자를 선출	한 선거구에서 2명 이상의 대표자를 선출

<보기 2>

ㄱ. A 방식에 비해 B 방식에서 국민의 다양한 의사가 선거에 반영된다.
 ㄴ. 일반적으로 A 방식에 비해 B 방식에서 사표(死票)가 많이 발생한다.
 ㄷ. B 방식보다 A 방식이 양당제를 촉진하는 경향이 있다.
 ㄹ. B 방식이 A 방식에 비해 선거 비용이 적게 든다.

- ① ㄱ, ㄴ ② ㄱ, ㄷ ③ ㄴ, ㄹ ④ ㄷ, ㄹ

10. <보기>는 헌법 개정 절차이다. 밑줄 친 ㉠~㉣에 대한 설명으로 가장 옳은 것은?



- ① 국회에서 ㉠을 하기 위해서는 국회재적의원 과반수의 찬성을 얻고, 국무회의 심의를 거쳐야 한다.
- ② ㉡은 20일 이상의 기간 동안 국회의장이 한다.
- ③ ㉢은 헌법개정안이 공고된 날로부터 90일 이내에 이루어져야 하며, 국회재적의원 2/3 이상의 찬성을 얻어야 한다.
- ④ ㉣은 헌법개정안을 국회가 의결한 후 30일 이내에 이루어져야 하며, 국회의원선거권자 과반수의 투표와 투표자 과반수의 찬성을 얻으면 헌법개정안은 확정된다.

11. <보기>의 밑줄 친 내용으로 가장 적절하지 않은 것은?

<보기>

국내 총생산(GDP)은 한 나라의 경제 활동 수준을 측정하는 데 매우 유용하지만, 국민의 삶의 질이나 생활 수준을 측정하는 데는 한계가 있다.

- ① 지하 경제에서 거래되는 부분은 국내 총생산에 포함되지 않는다.
- ② 국내 총생산은 생산활동으로 창출된 재화의 가치만 포함하며 서비스의 가치는 포함하지 못한다.
- ③ 국내 총생산은 총량의 개념이므로 소득 분배 상태를 정확하게 측정하지 못한다.
- ④ 국내 총생산의 증가가 반드시 국민의 복지 후생 수준의 향상을 의미하지는 않는다.

12. <보기>의 올림픽을 바라보는 관점이 가지는 일반적인 특징에 대한 설명으로 가장 옳은 것은?

<보기>

올림픽은 전세계 모든 이들이 꿈과 희망을 품고 하나가 되기를 희망한다. 즉, 올림픽은 경제적 지위, 학력, 인종, 성별이 다른 개인들을 하나의 공동체로 응집해 사회적 연대의식을 고취하는 기능을 수행한다.

- ① 사회갈등은 사회존속에 필요한 기능적 요건이 충족되지 않았기에 발생한다.
- ② 행위자에게서 파악될 수 없는 사회적 속성을 경시한다는 비판을 받는다.
- ③ 사회적 관계가 기본적으로 지배, 피지배의 관계라고 전제한다.
- ④ 사람들이 주어진 상황에 어떤 의미를 부여하는지에 대한 상황정의를 중시한다.

13. <보기>에 나타난 문화의 속성에 대한 설명으로 가장 옳은 것은?

<보기>

한국인들은 김치 냄새만 맡아도 군침이 돌고 밥 생각이 간절해진다. 식당에서 라면을 주문할 때도 당연히 김치가 나올 것을 기대한다. 오랜 외국생활을 한 사람들은 매콤한 김치에 흰쌀밥을 가장 그리워한다는 의견이 많다. 이는 김치가 한국인들에게 특별한 의미를 가지기 때문이다.

- ① 문화는 환경에 적응하는 과정에서 끊임없이 변화한다.
- ② 문화는 상대방의 행동을 예측하고 대응할 수 있게 해준다.
- ③ 문화는 계승되면서 보다 풍부한 요소를 갖추게 된다.
- ④ 문화의 한 부분의 변동은 다른 부분에 영향을 주어 변동을 일으킨다.

14. <보기>의 (가), (나)의 상황 및 그로 인해 나타날 수 있는 변화에 대한 설명으로 가장 옳지 않은 것은? (단, 노동 가능 인구수의 변화는 없다.)

<보기>

(가) 직장의 사정으로 인해 일자리가 없어진 갑(甲)은 일자리를 구하고 있는 중이다.
(나) 직장을 다니던 을(乙)이 학업을 위해 대학원에 진학하게 되면서 직장을 그만두게 되었다.

① 전체 인구			
③ 만 15세 미만 인구	② 노동 가능 인구(만 15세 이상 인구)		
	④ 비경제활동 인구	⑤ 경제활동 인구	
		⑥ 취업자	⑦ 실업자

* 실업률 $⑦ \div ⑤ \times 100$

* 취업률 $⑥ \div ⑤ \times 100$

* 고용률 $⑥ \div ② \times 100$

* 경제활동참가율 $⑤ \div ② \times 100$

- ① (가)의 경우 이전보다 실업률은 상승하고 고용률은 하락한다.
- ② (나)의 경우 실업률은 이전과 동일하고, 고용률은 이전보다 하락한다.
- ③ 갑은 취업자에서 실업자, 을은 취업자에서 비경제활동 인구가 되었다.
- ④ 경제활동참가율은 (가)의 경우 이전과 동일하지만, (나)의 경우 이전보다 하락한다.

15. <보기>의 자료는 갑(甲)국의 t기와 t+1기의 선거 결과를 나타낸 것이다. 이에 대한 분석 및 추론으로 가장 옳은 것은? (단, 갑국은 전형적인 대통령제 국가이다.)

<보기>

구분	t기	t+1기
A당	40%	60%
B당	32%	37%
C당	25%	2%
기타	3%	1%

* 두 시기 모두 행정부 수반은 A당 소속임.

- ① t기에 비해 t+1기에는 다수당의 횡포가 감소할 것이다.
- ② t+1기와 달리 t기에는 연립 정부가 구성되었을 것이다.
- ③ t기에 비해 t+1기에는 행정부 수반의 법적 권한이 많아졌을 것이다.
- ④ t+1기에 비해 t기에는 국민의 다양한 의견이 국정에 반영될 가능성이 클 것이다.

16. <보기> 표의 A~C는 정치참여집단이다. 이에 대한 설명으로 가장 옳은 것은? (단, A~C는 시민단체, 이익 집단, 정당 중 하나이다.)

<보기>

질문 내용	A	B	C
정치적 책임을 지는가?	예	아니오	아니오
공익을 사익보다 우선시하는가?	예	예	아니오
(가)	예	예	예

- ① A는 정권 획득을 목표로 하며 B, C와 달리 사회 구성원에 대한 정치 사회화 기능을 수행한다.
- ② B는 A와 달리 자발적으로 결성된 집단으로, 정치과정에서 투입 기능을 한다.
- ③ C는 B와 달리 대의제의 한계를 보완하기 위해 등장한 집단이다.
- ④ (가)에는 ‘정책 결정 과정에 영향력을 행사하는가?’가 들어갈 수 있다.

17. <보기>에 대한 분석으로 가장 옳은 것은?

<보기>

보일러를 독점 생산하는 K 기업은 보일러 가격 10% 인상을 고려하고 있다. 아래의 표는 K 기업의 사원 A~D가 예상한 보일러의 가격 인상에 따른 판매수입 변화율을 나타낸다.

구분	A	B	C	D
판매수입 변화율(%)	10	-10	5	0

- ① A는 보일러의 수요가 가격에 대해 완전비탄력적이라고 본다.
- ② B는 가격 인상 후 보일러의 수요량에 변화가 없을 것이라고 본다.
- ③ C는 가격상승률이 수요량 감소율보다 작다고 본다.
- ④ D는 보일러의 수요가 가격에 대해 탄력적이라고 본다.

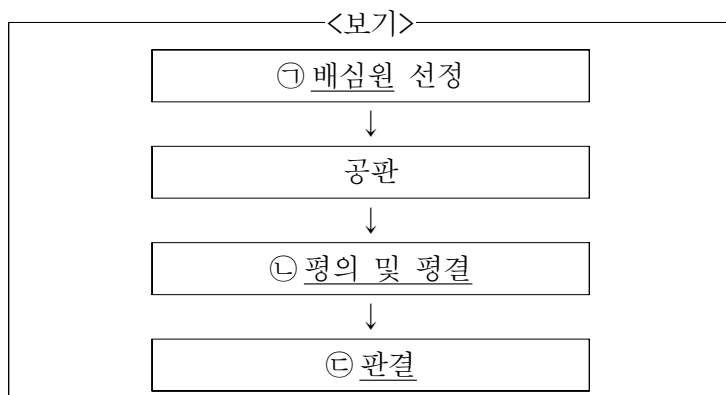
18. <보기>는 우리나라 사회보장 제도를 구분한 것이다. A~C에 대한 설명으로 가장 옳은 것은? (단, A~C는 각각 사회보험, 공공부조, 사회 서비스 중 하나이다.)

<보기>

특징 \ 제도	A	B	C
소득 재분배 효과가 있는가?	아니오	예	예
상호부조의 성격이 강한가?	아니오	예	아니오

- ① A는 강제 가입을 원칙으로 한다.
 ② B는 수혜 정도에 따라 비용을 부담한다.
 ③ C는 대상자 선정 과정에서 부정적 낙인이 발생할 수 있다.
 ④ A, B는 C와 달리 비금전적 지원을 원칙으로 한다.

19. <보기>는 우리나라가 2008년에 도입하여 시행 중인 재판의 절차이다. 이와 관련한 설명으로 가장 옳은 것은?



- ① ㉢에 불복하는 경우 검사와 피고인 모두 2심 법원에 항소할 수 있다.
 ② ㉠은 일정한 법적 지식이 있는 만 20세 이상의 국민 중에서 선정된다.
 ③ 국민의 의견을 반영해야 하므로 재판부는 반드시 ㉡에 따라 판결을 선고해야 한다.
 ④ 민사 재판과 형사 재판에서 피고인이 신청하는 경우에만 실시된다.

20. <보기>와 같은 글을 쓴 근대 사상가에 대한 설명으로 가장 옳은 것은?

<보기>

인간은 자연 상태에서는 자유롭고 행복하고 선량하지만, 스스로 만든 사회 제도나 문화에 의해 억압당하는 불행한 삶을 살고 있다. …… 다른 사람과 더불어 살면서 자신의 신체와 재산을 지키고 자신에게만 복종하는, 마치 자연 상태와 같이 자유로우려면 사회 계약을 통해 국가를 만들어야 한다. …… 국가는 국민의 자유의사로 만들어진다. 주권자인 국민의 ㉠에 의해 형성된 국가는 특수한 개인이나 집단의 의지를 초월하는 보편적 가치를 지닌다.

-『인간 불평등 기원론』 中-

- ① ㉠에는 ‘보통선거’가 적절하다.
 ② 프랑스 혁명의 영향을 받은 사상가이다.
 ③ 자연 상태를 ‘만인에 대한 만인의 투쟁’으로 보았다.
 ④ 국가는 개인의 자유로운 계약으로 형성된다고 보았다.