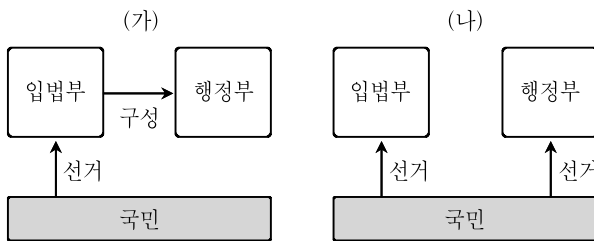


사 회

문 1. 루소(J. J. Rousseau)의 사회계약론에 해당하는 것은?

- ① 국가 이전의 상태는 ‘만인의 만인에 대한 투쟁’ 상황이다.
- ② 시민적 자유는 국가로부터 간섭받지 않을 때 얻는 것이다.
- ③ 국가 수립 이후 입법부가 법률제정권과 재판권을 행사한다.
- ④ 일반의지에 의해 형성된 국가는 개인이나 집단의 특수의지를 초월하는 보편적 가치를 지닌다.

문 2. 다음은 영국과 미국의 정부 형태를 도식화한 것이다. (가)에 비해 (나)가 갖는 특징으로 옳은 것만을 <보기>에서 모두 고른 것은?



— <보 기> —

- ㄱ. 입법부와 행정부가 제도적으로 결합되어 있다.
- ㄴ. 행정부는 의회를 해산하여 의회 다수파를 견제할 수 있다.
- ㄷ. 입법부는 행정부 수반이 거부한 법률안을 재의결할 수 있다.
- ㄹ. 행정부 수반은 탄핵 등 특별한 경우를 제외하면 임기가 보장된다.

- ① ㄱ, ㄴ
- ② ㄱ, ㄷ
- ③ ㄴ, ㄷ
- ④ ㄷ, ㄹ

문 3. A국의 국회의원 선거 결과에 대한 분석으로 옳은 것은?

A국의 정당	지역대표		비례대표	
	득표율(%)	의석수(명)	득표율(%)	의석수(명)
X정당	50	121	60	30
Y정당	30	39	32	16
Z정당	10	19	8	4
무소속	10	21	0	0
합계	100	200	100	50

- ① X정당은 득표율에 비해 과대대표되고 있다.
- ② 1인 2표이기 때문에 평등선거 원칙에 위배된다.
- ③ A국이 대통령제 국가라면, X정당이 행정부를 구성한다.
- ④ A국이 의원내각제 국가라면, 복수 정당의 연립 정부가 구성된다.

문 4. 국회의원의 법률안 발의를 활성화하기 위한 방안으로 적절하지 않은 것은?

- ① 직능대표제 강화
- ② 국회입법조사처 기능 제고
- ③ 일사부재의 원칙의 폐지
- ④ 국회의원 입법 활동 지원

문 5. 다음의 내용을 모두 포괄하는 것은?

- 원칙, 규범, 규칙, 절차 등으로 구성되어 있다.
- 비공식적인 정치적·관습적 요소도 포함한다.
- 참여국들의 자발적인 결합에 기초한 협력적 제도이다.
- 국제기구보다 범위가 넓으며 국제기구를 이용할 수 있다.

- ① 국제레짐
- ② 유엔헌장
- ③ 평화조약
- ④ 비정부간 국제기구

문 6. 임신 중인 A는 B가 운전하는 자동차에 치여 심하게 다쳤으며, 이 사고로 A의 태아가 유산되었다. 이에 대한 법적 판단으로 옳지 않은 것은?

- ① A는 B에게 손해배상을 청구할 수 있다.
- ② A가 청구할 수 있는 손해배상의 범위에 정신적 피해는 포함되지 않는다.
- ③ 「민법」상 출생의 시기는 전무노출설(완전노출설)이 판례의 입장이다.
- ④ 「민법」상 태아는 불법행위에 기한 손해배상의 청구권에 관하여는 이미 출생한 것으로 본다.

문 7. 위헌법률심판 제청에 대한 설명으로 옳은 것은?

- ① 법률이 헌법에 위반되는지의 여부가 재판의 전제가 된 경우에 당해 사건을 담당하는 법원이 헌법재판소에 위헌법률심판의 제청을 하려면 당사자의 신청이 있어야 한다.
- ② 당해 사건의 당사자는 법원에 위헌법률심판 제청신청을 하지 않고 직접 헌법재판소에 위헌법률심판을 청구할 수 있다.
- ③ 당해 사건의 법원이 당사자의 위헌법률심판 제청신청을 기각하면 당사자는 헌법재판소에 헌법소원심판을 청구할 수 있다.
- ④ 당해 사건의 법원이 당사자의 위헌법률심판 제청신청을 기각하면 당사자는 법원의 기각결정에 대해 항고할 수 있다.

문 8. 청소년의 근로에 대한 법적 보호 내용으로 옳지 않은 것은?

- ① 미성년자는 독자적으로 임금을 청구할 수 없다.
- ② 사용자는 18세 미만자를 도덕상 또는 보건상 유해·위험한 사업에 사용하지 못한다.
- ③ 사용자는 18세 미만자의 동의를 있는 경우에는 고용노동부장관의 인가를 받아 오후 10시부터 오전 6시까지의 시간 및 휴일에 근로를 시킬 수 있다.
- ④ 15세 이상 18세 미만인 자의 근로시간은 1일에 7시간, 1주일에 40시간을 초과하지 못하나, 당사자 사이의 합의에 따라 1일에 1시간, 1주일에 6시간을 한도로 연장할 수 있다.

문 9. 다음 사례에 제시된 A, B, C, D의 행위에 대한 법적 판단으로 옳은 것은? (A, B, C, D 모두 14세 이상이며, 심신장애는 없다)

- A는 칼을 들고 위협하는 강도를 야구방망이로 때려 기절시켰다.
- 의사 B는 응급실에 실려 온 교통사고 환자의 상태를 살펴보고 수술을 하기 위해 옷을 찢었다.
- C는 자신이 운영하는 호텔에서 숙박비를 지불하지 않고 도주하는 손님을 붙잡아서 숙박비를 받아냈다.
- D는 동해안 어로한계선 부근에서 고기잡이를 하다가 북한 경비정에 피랍되어, 시키는 대로 하지 않으면 죽이겠다는 북한의 협박에 건디지 못해 대한민국을 비난하는 공개 기자회견을 하였다.

- ① A의 행위는 책임이 조각되어 범죄에 해당하지 아니한다.
- ② B의 행위는 위법성이 조각되어 범죄에 해당하지 아니한다.
- ③ C의 행위는 책임이 조각되어 범죄에 해당하지 아니한다.
- ④ D의 행위는 위법성이 조각되어 범죄에 해당하지 아니한다.

문 10. 다음 사례의 C와 D가 경매대금에서 각각 변제받을 수 있는 금액은?

- 주택 소유자
 - － A: 서울에 2층 다가구 주택 1채 소유함
 - 임차인
 - － B: A소유 다가구 주택의 1층에 거주, 보증금 5,000만 원
 - － C: A소유 다가구 주택의 2층에 거주, 보증금 3,000만 원
 - 입주 시기 및 권리관계
 - － 2014. 1. 2. B는 A소유 다가구 주택 1층에 입주하고, 입주한 날 전세권을 설정함
 - － 2014. 1. 17. A는 자신 소유의 2층 다가구 주택을 담보로 D은행에서 1억 1,000만 원을 대출받고, 대출한 날 D은행이 저당권을 설정함
 - － 2014. 2. 5. C는 A소유 다가구 주택 2층에 입주하고, 입주한 날 주민등록 전입신고 후 확정일자 부여받음
 - － 2014. 3. 18. A소유 다가구 주택에 대한 경매절차가 진행되어, E가 1억 7,000만 원에 그 주택을 낙찰받아 소유권을 취득함
- ※ 소액 임차인의 최우선 변제권: 서울 지역에서 임대차 보증금이 9,500만 원 이하일 경우, 경매 시 3,200만 원을 최우선 변제 받음

C

D

- ① 1,000만 원 9,000만 원
- ② 1,000만 원 1억 1,000만 원
- ③ 3,000만 원 9,000만 원
- ④ 3,000만 원 1억 1,000만 원

문 11. 관료제에 대한 설명으로 옳지 않은 것은?

- ① 목적전치현상이 나타날 수 있다.
- ② 근속연수나 경력에 따른 연공서열을 중시한다.
- ③ 전문화와 분업화로 효율적 업무 수행을 중시한다.
- ④ 수평적 관계에서의 자유로운 의사소통을 통한 의사결정이 활발하다.

문 12. 다음 주장에 나타난 사회이론에 대한 설명으로 옳은 것만을 <보기>에서 모두 고른 것은?

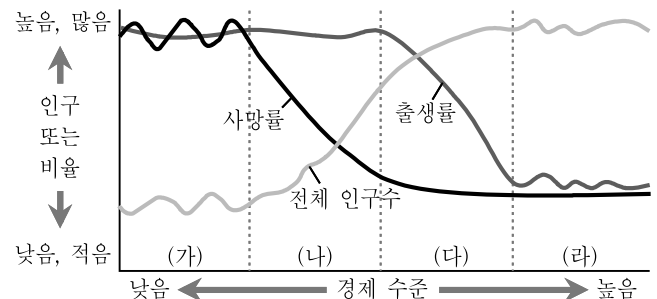
가난한 나라가 발전하려면 이미 근대화를 이룬 서구 선진국의 발전 과정을 모델로 삼아 의도적으로 사회 발전을 추진해야 한다. 그러므로 서구 사회처럼 무엇보다 산업화가 이루어져야 하며 또 정치적인 자유와 민주주의의 확립, 합리주의, 개인주의 등 서구의 근대적 가치를 수용해야 한다.

— <보 기> —

- ㄱ. 근대화는 곧 서구화라고 보고 있다.
- ㄴ. 문화상대주의적 사고를 바탕으로 하고 있다.
- ㄷ. 사회는 일정한 방향성을 가지고 변동한다는 사회진화론을 전제하고 있다.
- ㄹ. 개발도상국의 저발전은 선진국과의 종속 관계에 기인한다고 보고 있다.


- ① ㄱ, ㄴ
- ② ㄱ, ㄷ
- ③ ㄴ, ㄹ
- ④ ㄷ, ㄹ

문 13. 그림은 인구 변천 과정을 보여 준다. 이에 대한 설명으로 옳은 것은?



- ① (가)단계는 다산다사(多産多死) 형으로 산업혁명 이전의 사회들이 이에 속한다.
- ② (나)단계는 노년층의 인구 비율이 높아져 고령화가 사회 문제로 나타난다.
- ③ (다)단계는 인구증가율이 급격히 상승하는 단계이다.
- ④ (라)단계는 의학, 과학 등의 발달로 사망률이 감소하여 인구가 급격히 증가한다.

문 14. 다음 한국 문화 체험기에서 밑줄 친 ㉠~㉣에 대한 설명으로 옳은 것은?

나는 ㉠ 미국으로 이민을 간 지 30년 만에 고국인 한국을 방문하였다. 지하철을 타는 승객들 대부분이 과거와는 다르게 ㉡ 교통카드를 사용한다는 사실에 놀랐다. 봄비는 지하철에 승차한 후 빈자리에 앉았으나 이상한 기분이 들어 자세히 살펴보니, 의자 위 벽면에 와 같은 표시가 붙어 있는 것을 발견하였다. 나는 ㉢ 승객들 모두 이 자리가 교통약자석이라는 것을 알고 있기 때문에 비워두었다는 것을 뒤늦게 깨달았다. 그래서 얼른 자리에서 일어섰다. 한편, 나는 어떤 사람이 다른 승객들의 눈치를 의식하지 않고 ㉣ 큰 소리로 휴대폰 통화를 하는 것을 보고 불쾌감을 느꼈다.

- ① ㉠은 문화사대주의로 인한 결과이다.
- ② ㉡은 관념문화의 사례이다.
- ③ ㉢은 문화의 속성 중 공유성의 사례이다.
- ④ ㉣은 기술지체의 사례이다.

문 15. 다음은 어느 연구 계획서의 일부이다. 이에 대한 설명으로 옳은 것만을 <보기>에서 모두 고른 것은?

- 연구 주제: 특성화고등학교 학생들의 스마트폰 이용 실태
- 표본: 광역시에 소재하는 특성화고등학교에서 무작위로 추출한 남녀 학생 각 2,000명
- 조사 방법: 설문 조사 실시
- 조사 내용: 성별, 학년, 1일 평균 스마트폰 이용 시간, 스마트폰 이용 유형
- 자료 분석: 통계 프로그램을 이용하여 분석 실시

— <보 기> —

- ㄱ. 방법론적 이원론에 근거하고 있다.
- ㄴ. 구조화·표준화된 자료 수집 방법을 활용하고 있다.
- ㄷ. 조사 결과를 전국 특성화고등학교 학생들에게 일반화할 수 없다.
- ㄹ. 조사 대상자의 주관적인 세계를 심층적으로 이해하는 데 유리하다.

- ① ㄱ, ㄴ
- ② ㄱ, ㄹ
- ③ ㄴ, ㄷ
- ④ ㄷ, ㄹ

문 16. 공공재에 대한 설명으로 옳지 않은 것은?

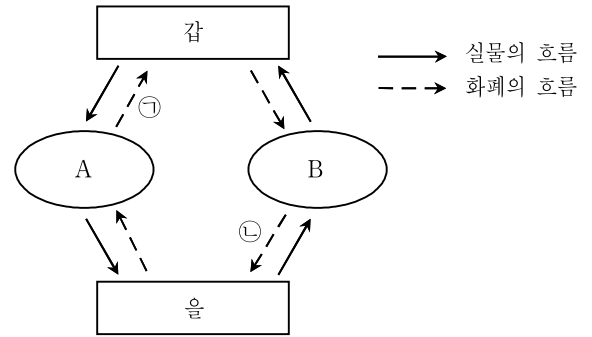
- ① 공공재는 소비의 비경합성과 비배제성의 특성을 갖는다.
- ② 공공재는 시장실패의 주요 요인 중 하나이다.
- ③ 공공재에는 정부가 제공하는 국방 서비스가 포함된다.
- ④ 공공재는 무임승차자의 문제가 발생하지 않는다.

문 17. 다음 금융상품에 10,000,000원을 2년 동안 가입할 경우, 만기에 예상되는 세전 명목 이자액은?

상품 종류	특징
○○정기예금	- 연 단위 복리상품 - 명목 이자율 연 10%(고정금리)

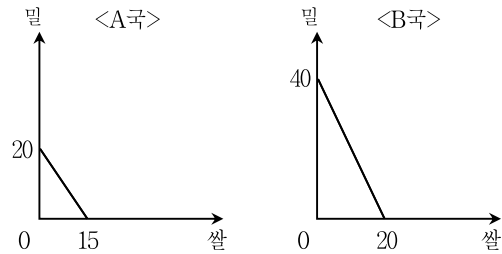
- ① 2,000,000원
- ② 2,100,000원
- ③ 12,000,000원
- ④ 12,100,000원

문 18. 그림은 민간 부문의 경제 흐름을 보여주고 있다. 이에 대한 설명으로 옳은 것은? (단, 갑과 을은 경제주체이고, A와 B는 시장이다)



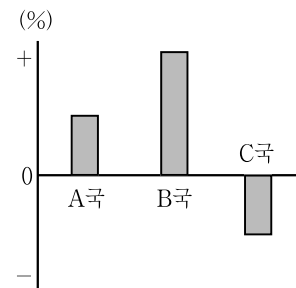
- ① 갑이 기업이면, B는 생산물 시장이다.
- ② 갑이 기업이면, ㉡은 가계의 소득이 된다.
- ③ ㉠의 크기와 ㉡의 크기는 부(-)의 관계이다.
- ④ 을이 가계이면, 노동의 거래는 A에서 이루어진다.

문 19. 그림은 쌀과 밀만을 생산하는 A국과 B국의 교역 전 최대 생산 가능량을 나타낸 것이다. 이에 대한 설명으로 옳은 것은? (단, 두 나라의 생산요소는 노동뿐이고 총 노동량은 동일하며, 생산물 단위는 톤이다)



- ① A국은 밀 생산에, B국은 쌀 생산에 비교우위가 있다.
- ② B국의 밀 1톤 생산에 대한 기회비용은 쌀 2톤이다.
- ③ 쌀과 밀 생산에 있어 A국은 기술 수준이 더 높다.
- ④ B국은 A국에 비해 쌀과 밀 생산 모두에서 절대우위에 있다.

문 20. 그림은 미국 달러 대비 A국, B국, C국의 통화가치 변동률이다. 이와 같은 상황이 장기간 지속될 경우, 예상되는 변화에 대한 설명으로 옳은 것은? (단, 다른 조건은 일정하다)



- ① B국에 대한 미국의 수출이 장기적으로 감소할 것이다.
- ② C국의 $\frac{\text{자국 통화}}{\text{미국 달러}}$ 표시 환율은 지속적으로 하락할 것이다.
- ③ B국으로 여행할 미국 사람은 B국 통화로 미리 환전해 두는 것이 유리하다.
- ④ B국의 부품을 미국 달러로 결제하여 수입하는 A국 제조기업의 생산비는 인하될 것이다.