



서정민 사회

2020년 6월 13일 지방직(9급) [사회]

(B)책형 문제/해설

꿈의 크기가 자신을 만드는 힘이 됩니다.

서정민 공무원 고시 연구소 www.cafe.naver.com/uriminlab

<총평>

1. 과목별 출제 문항 비율

- 정치와 법 10문제, 사회문화 5문제, 경제 5문제가 출제되었다.

문항 번호	출제 내용		
	과목	단원	출제부분
1	정법	6	국제사회의 변천 과정
2	정법	1	주권 개념
3	정법	1	지방자치단체
4	정법	3	법률 제개정 과정
5	정법	2	정당, 시민단체, 이익집단
6	정법	4	연령
7	정법	5	소년법
8	정법	3	인사청문회 청문대상
9	정법	5	미성년자의 근로
10	정법	4	민법의 기본원리

11	사문	1	양적 연구
12	사문	2	자발적 결사체
13	사문	1	자료수집방법
14	사문	2	사회화를 보는 관점
15	사문	4	세대 간 이동
16	경제	4	인플레이션
17	경제	2	외부경제와 불경제
18	경제	2	최저가격제와 최고가격제
19	경제	5	환율 변화
20	경제	4	명목GDP와 GDP디플레이터

2. 출제 경향

작년보다는 체감 난이도가 다소 높았을 것 같다. 전반적으로 난이도가 중하 정도였다고 평가된다.

(1) 정치와 법

크게 어려운 문제는 없었지만, 인사청문회 대상, 소년법과 관련된 연령계산 등에서 다소 까다롭게 느껴질 수도 있었다. 인사청문회 대상은 우리 기본서 1권 국회파트에 자세히 정리되어 있었다.

(2) 사회문화

5문제 모두 쉬운 문제였다. 세대 간 이동 문제도 너무 쉽게 출제되어 아마도 5문제 모두 맞추었을 것으로 생각된다.

(3) 경제

외부경제와 불경제, 최저가격제와 최고가격제, 마지막 명목GDP와 GDP디플레이터 모두 난이도 '중' 정도의 문제였다. 평소에 공부를 많이 한 수험생은 답을 바로 찾을 수 있지만, 경제 문제에 익숙하지 않았을 수험생들은 난이도가 높게 느껴질 수도 있다.

3. 국가직 대비 공부법

국가직은 지방직보다는 더 평이하게 출제될 것으로 예상된다. 기본서를 꼼꼼하게 보고, 동형모의고사와 기본서 내용을 합쳐서 마무리를 한다면 좋은 점수를 받을 것이다. 사회는 중요한 부분에서 또 출제된다. 중요부분을 위주로 공부하기를 당부드린다.

문 1. 국제사회의 변천 과정에 대한 설명으로 옳지 않은 것은?

- ① 1648년 베스트팔렌 조약을 기점으로 영토, 국민, 주권을 지닌 국민국가가 국제사회의 주체로 등장하였다.
- ② 국제연맹은 미국의 참여와 주도에도 불구하고 일본과 독일, 이탈리아의 탈퇴로 실질적인 효과를 거두지 못하였다.
- ③ 미국은 1947년 트루먼 독트린을 통해 공산주의 세력의 위협을 받는 국가에 군사 및 경제 원조를 제공하였다.
- ④ 1990년대 들어 냉전이 종식되면서 민족, 종교, 영토, 자원 등으로 인한 분쟁은 오히려 증가했다.

문 2. 국가의 구성요소인 주권에 대한 설명으로 옳은 것만을 모두 고르면?

- ㄱ. 일반 사회 집단도 소유할 수 있다.
 - ㄴ. 국가 원수로서 대통령만이 갖는 권한이다.
 - ㄷ. 민주주의 국가에서는 그 소재가 국민에게 있다.
 - ㄹ. 주권은 대내적으로 최고성, 대외적으로 독립성을 갖는다.

- ① ㄱ, ㄴ
- ② ㄱ, ㄷ
- ③ ㄴ, ㄷ
- ④ ㄷ, ㄹ

[문1 해설] 정답② 「국제사회 변천 과정」 난이도 하

- ① (○) 베스트팔렌조약을 계기로 근대 주권국가가 등장하였다.
- ② (×) 1920년 국제연맹에는 미국이 참여하지 않았다. 일본과 독일, 이탈리아의 탈퇴로 실질적 효과를 거두지 못한 것은 올바른 내용이다.
- ③ (○) 1947년 미국의 트루먼 대통령은 트루먼 독트린을 통해 공산주의 세력의 확장을 경계하자는 선언을 하였고, 이에 마셜플랜으로 서유럽과 그리스, 터키 등에 약 130억 달러의 경제적 원조를 제공하였다.
- ④ (○) 1989년 몰타정상회담에서 냉전 종식이 선언되면서 이념 대립 문제는 해소되었으나, 오히려 민족·종교·영토 등 국지적 분쟁이 증가하였다.

[문2 해설] 정답④ 「주권」 난이도 하

- ㄱ. (×) 주권은 자연인만 가진다.
- ㄴ. (×) 주권은 국민의 권리이다.
- ㄷ. (○) 민주주의 국가에서는 국민주권주의가 원칙이다.
- ㄹ. (○) 주권은 내부적으로는 최고의 권력이고, 대외적으로는 자주·독립된 권력이다.

문 3. 우리나라의 지방자치제도에 대한 설명으로 옳은 것은?

- ① 지역 주민들은 조례 제정 및 개폐 청구권을 가진다.
- ② 기초의회는 비례대표 의원 없이 지역구 의원만으로 구성된다.
- ③ 지방자치단체장은 지방자치단체의 예산을 심의·확정하고, 결산을 승인한다.
- ④ 교육자치를 위해 광역자치단체와 기초자치단체에 각각 교육감을 두고 있다.

[문3 해설] 정답① 「지방자치제도」 난이도 하

- ① (○) 주민발안에 대한 내용이다.
- ② (×) 기초의회도 광역의회와 마찬가지로 비례대표 의원이 있다.
- ③ (×) 지방자치단체의 예산을 심의·확정하고, 결산을 승인하는 권한은 지방의회가 가진다. 지방자치단체장은 예산안을 편성하는 권한을 가진다.
- ④ (×) 교육감은 광역자치단체에만 둔다.

문 4. ㉠과 ㉡에 대한 설명으로 옳은 것은?

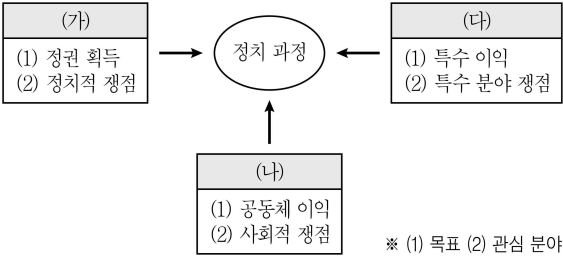
- 국회의원 A는 ㉠ 「도로교통법」 일부 개정 법률안을 대표 발의하려고 한다.
- 정부는 ㉡ 「형의 집행 및 수용자의 처우에 관한 법률」 일부 개정 법률안을 국회에 제출하려고 한다.

- ① ㉠의 발의자는 국회의원 5인 이상이어야 한다.
- ② ㉠이 가결되어 정부에 이송되면 대통령은 15일 이내에 국회로 환부하여 재의를 요구할 수 있다.
- ③ 정부는 ㉡을 국회에 제출하기 전에 국회 상임위원회의 심의를 거쳐야 한다.
- ④ ㉡은 국회의원 임기 만료의 경우를 제외하고는 회기 중에 의결되지 못하면 폐기된다.

[문4 해설] 정답② 「법률 제개정 과정」 난이도 하

- ① (×) 법률안 발의는 국회의원 10인 이상이어야 한다.
- ② (○) 법률안이 정부에 이송되고 15일이 지나면 법률로 확정되기 때문에, 대통령은 15일 이내에 거부권을 행사하여야 한다.
- ③ (×) 정부가 법률안을 국회에 제출할 경우, 국무회의 심의를 거쳐야 한다. 그 후 국회에 제출된 법률안은 국회의장이 소관 상임위원회에 회부한다.
- ④ (×) 법률안이 회기 중에 의결되지 못한 경우에도 폐기되지 않는다. 이를 회기계속의 원칙이라고 한다. 다만, 임기 만료시에는 모두 폐기된다.

문 5. 그림의 (가) ~ (다)에 대한 설명으로 옳지 않은 것은?
(단, (가) ~ (다)는 각각 정당, 시민단체, 이익집단 중 하나이다)



- ① (가)는 정치적 충원과 여론 형성 및 조직화 기능을 수행한다.
- ② (나)는 시민들에 의해 자발적으로 구성되는 집단이다.
- ③ (다)는 사회 전체의 보편적 이익과 충돌하는 활동을 할 우려가 있다.
- ④ (가)와 (다)는 정치적 책임을 진다는 공통점이 있다.

[문5 해설] 정답④ 「정치참여집단」 난이도 하

(가)는 정당, (나)는 시민단체, (다)는 이익집단이다.

- ① (○) 정당은 후보자를 선거에 공천함으로써 정치적 충원기능을 수행하고, 여론을 형성·조직화하여 소속 의원들로 하여금 정책에 반영하도록 한다.
- ② (○) (나)는 시민단체이며, 자발적 결사체이다.
- ③ (○) 이익집단이 자신의 이익을 위해서만 활동한다면 사회 전체의 이익과 충돌할 수 있다. 노사분규나 병원 폐업 등은 공공의 이익을 저해할 수 있다.
- ④ (×) 정치적 책임을 부담하는 것은 정당뿐이다. 정당은 후보자를 공천하기 때문에, 공천받은 후보자를 선거민이 선택하지 않으면, 그 정당은 정치적 책임을 부담하는 것이 된다.

문 6. 연령기준과 관련된 법 규정으로 옳지 않은 것은?

- ① 「민법」은 ‘만 18세가 된 사람은 혼인할 수 있다’고 규정하고 있다.
- ② 헌법은 ‘대통령으로 선거될 수 있는 자는 선거일 현재 25세에 달하여야 한다’고 규정하고 있다.
- ③ 「민법」은 ‘사람은 19세로 성년에 이르게 된다’고 규정하고 있다.
- ④ 「공직선거법」은 ‘18세 이상의 국민은 대통령 및 국회의원의 선거권이 있다’고 규정하고 있다.

[문6 해설] 정답② 「연령」 난이도 하

- ① (○) 민법상 혼인 적령은 만18세이다.
- ② (×) 대통령으로 선거될 수 있는 자는 선거일 현재 40세에 달하여야 한다.
- ③ (○) 민법상 성년 연령은 만19세이다.
- ④ (○) 공직선거법상 선거권을 갖는 연령은 2020년부터 만18세이다.

문 7. 상점 절도를 저지른 갑~정에 대한 판단으로 옳은 것만을 <보기>에서 모두 고르면?

구분	갑	을	병	정
10세 이상의 '소년'인가요?	아니요	아니요	예	예
기소할 수 있는 연령인가요?	예	아니요	아니요	예

——<보 기>——

ㄱ. 갑과 정은 모두 선도조건부 기소유예 처분을 받을 수 있다.

ㄴ. 정의 연령은 을, 병보다 높지만 갑보다는 낮다.

ㄷ. 을, 병은 모두 형사 미성년자이다.

ㄹ. 검사는 정에 대한 피의사건 수사 결과, 보호 처분에 해당하는 사유가 있다고 인정한 경우에는 사건을 관할 법원 소년부에 송치하여야 한다.

- ① ㄱ, ㄷ
- ② ㄴ, ㄹ
- ③ ㄱ, ㄴ, ㄷ
- ④ ㄴ, ㄷ, ㄹ

[문7 해설] 정답④ 「소년법과 형사절차」 난이도 중

갑~정 모두 형법법령에 위반되는 행위, 즉 범죄를 범하였다. 기소할 수 있는 연령은 만14세 이상이며, 소년법상 소년은 만19세 미만자이다.

갑은 19세 이상, 을은 10세 미만, 병은 10세 이상 14세 미만, 정은 14세 이상 19세 미만이다. 따라서 을-병-정-갑의 순서로 나이가 점차 많아진다.

- ㄱ. (×) 선도조건부 기소유예처분은 소년에 대해서 적용된다. 따라서 정은 선도조건부 기소유예처분을 받을 수 있지만, 갑은 받을 수 없다.
- ㄴ. (○) 연령은 을<병<정<갑의 순서이므로, 옳은 지문이다.
- ㄷ. (○) 을과 병은 14세 미만자이므로 형사미성년자이다.
- ㄹ. (○) 소년법 제49조 제1항의 규정이다.

문 8. 국회 인사청문회의 청문대상 공직이 아닌 것은?

- ① 대법원장
- ② 감사원 감사위원
- ③ 국무총리
- ④ 대법관

[문8 해설] 정답② 「국회 인사청문회 대상 공직자」 난이도 중

② 감사원장은 인사청문회의 청문대상이지만, 감사위원은 아니다.

[국회법]

제46조의3(인사청문특별위원회) ① 국회는 다음 각 호의 임명동의안 또는 의장이 각 교섭단체 대표의원과 협의하여 제출한 선출안 등을 심사하기 위하여 인사청문특별위원회를 둔다.

1. 헌법에 따라 그 임명에 국회의 동의를 필요한 대법원장·헌법재판소장·국무총리·감사원장 및 대법관에 대한 임명동의안
2. 헌법에 따라 국회에서 선출하는 헌법재판소 재판관 및 중앙선거관리위원회 위원에 대한 선출안

제65조의2(인사청문회) ① 제46조의3에 따른 심사 또는 인사청문을 위하여 인사에 관한 청문회를 연다.

② 상임위원회는 다른 법률에 따라 다음 각 호의 어느 하나에 해당하는 공직후보자에 대한 인사청문 요청이 있는 경우 인사청문을 실시하기 위하여 각각 인사청문회를 연다.

1. 대통령이 임명하는 헌법재판소 재판관, 중앙선거관리위원회 위원, 국무위원, 방송통신위원회 위원장, 국가정보원장, 공정거래위원회 위원장, 금융위원회 위원장, 국가인권위원회 위원장, 국세청장, 검찰총장, 경찰청장, 합동참모의장, 한국은행 총재, 특별감찰관 또는 한국방송공사 사장의 후보자
2. 대통령당선인이 「대통령직 인수에 관한 법률」 제5조 제1항에 따라 지명하는 국무위원 후보자
3. 대법원장이 지명하는 헌법재판소 재판관 또는 중앙선거관리위원회 위원의 후보자

문 9. 갑에 대한 법적 조언으로 옳은 것은?

만 18세인 갑은 친권자인 양부모의 동의를 얻어 을이 사장인 주유소에서 하루 8시간씩 근로를 하게 되었다. 사장인 을은 근무 기간이 3개월이 안 될 경우 유급 휴일이 인정되지 않는다고 하였고, 갑은 3개월간 쉬는 날 없이 성실하게 일하였다. 그 동안 학업을 병행하느라 월급에 대해 신경을 쓰지 못하고 있었는데 알고 보니 양부인 병이 근로 계약서를 작성하여 갑의 임금이 병에게 지급되고 있었다.

- ① 갑의 근로 시간은 1일 7시간을 초과할 수 없다.
- ② 사용자는 근로자에게 1주에 평균 1회 이상의 유급 휴일을 보장하여야 한다.
- ③ 민사상 미성년자이기 때문에 친권자인 양부모가 대리 계약을 체결하는 것은 물론, 갑의 임금을 대리 지급받는 것도 가능하다.
- ④ 사용자와의 합의에 따라 휴식 시간은 1일 1시간 보장되고, 근로 시간은 1일 30분 한도로 연장 가능하다.

[문9 해설] 정답② 「근로자의 권리」 난이도 중

갑은 만18세 이므로 연소근로자가 아니다. 따라서 근로 시간은 성인 근로자의 근로시간이 적용된다.

- ① (×) 갑은 휴게시간을 제외하고 1일 8시간을 초과할 수 없다(근로기준법 제50조 제2항).
- ② (○) 근로기준법 제55조 제1항의 규정이다.
- ③ (×) 근로계약은 미성년자가 직접 체결해야 하고, 임금 또한 친권자 동의 없이 독자적으로 청구할 수 있다.
- ④ (×) 사용자는 근로시간이 4시간인 경우에는 30분 이상, 8시간인 경우에는 1시간 이상의 휴게시간을 근로시간 도중에 주어야 한다. 당사자가 합의하면 1주 12시간을 한도로 근로시간을 연장할 수 있다.

문 10. 민법의 기본원리인 (가) ~ (다)에 대한 설명으로 옳은 것만을 <보기>에서 모두 고른 것은?

구분	관련 내용
(가)	개인의 재산권은 공공복리에 적합하도록 행사되어야 한다.
(나)	개인은 자유로운 의사에 기초하여 타인과 법률 관계를 형성할 수 있다.
(다)	가해자는 직접적인 고의나 과실이 없는 경우에도 일정한 요건에 따라 손해 배상 책임을 질 수 있다.

<보 기>

ㄱ. (가)는 개인 소유의 재산에 대해 사적 지배를 인정하지 않는다.
 ㄴ. (나)에 의해 사회적 이익에 반하거나 불공정한 계약은 법적 효력이 없다.
 ㄷ. (다)는 제조물 책임에 대해서 적용되는 원칙이다.
 ㄹ. (가)와 (다)는 개인이나 기업의 사회적 책임을 강조한다.

- ① ㄱ, ㄴ
- ② ㄱ, ㄷ
- ③ ㄴ, ㄹ
- ④ ㄷ, ㄹ

[문10 해설] 정답④ 「민법의 기본원리」 난이도 하

(가)는 소유권 상대의 원칙, (나)는 사적 자치의 원칙, (다)는 무과실책임의 원칙이다.

- ㄱ. (×) 소유권 상대의 원칙은 수정원칙이지만, 개인 소유 재산에 대한 사적 지배를 원칙으로 한다. 다만, 공공복리를 위해서 예외적으로 제한을 할 수 있다는 것이다.
- ㄴ. (×) (나)는 근대 민법의 원칙이다. 사회적 이익에 반하거나, 불공정한 계약을 무효로 하는 것은 수정원칙인 계약공정의 원칙이다.
- ㄷ. (○) 제조물책임은 무과실책임이다.
- ㄹ. (○) (가)와 (다)는 근대 민법의 수정원칙이며, 수정원칙은 공공복리라는 사회적 책임을 위해 근대 민법을 수정한 것이다.

문 11. 다음은 연구 단계를 순서 없이 나열한 것이다. 이에 대한 설명으로 옳은 것은?

- (가) 수집한 자료를 통계 처리하여 변수 간의 인과 관계 분석
- (나) 자기주도학습이 학업 성취도에 미치는 영향을 연구 주제로 선정
- (다) 자기주도학습 태도를 지닌 고등학생일수록 학업 성취도가 높을 것이라는 잠정적 결론 도출
- (라) ○○시 △△고교 학생 1,500명을 대상으로 연구주제에 대한 설문조사 실시
- (마) 학업 성취도는 1학과 2학기의 지필평가 평균 점수를 비교하여 측정하기로 결정

- ① (가) 단계와 (다) 단계에서는 연구자의 가치 중립적 태도가 요구된다.
- ② (가) 단계에서는 (다) 단계와 달리 연구자의 직관적 통찰이 필요하다.
- ③ (나) 단계와 (마) 단계에서는 연구자의 가치가 개입된다.
- ④ 연구는 (나)→(라)→(가)→(마)→(다)의 순서로 진행되어야 한다.

[문11 해설] 정답③ 「양적 연구」 난이도 하

(가)는 자료수집 후 자료분석, (나)는 연구 주제 선정, (다)는 가설설정, (라)는 자료수집, (마)는 연구설계(개념의 조작적 정의는 연구설계단계에서 한다.)이다. 따라서 순서는 (나)→(다)→(마)→(라)→(가) 이다.

- ① (×) (가) 단계는 자료분석이므로 가치중립이 요구되지만, (다)는 가설설정으로 연구자의 가치 개입이 허용된다.
- ② (×) 위의 연구는 양적 연구이다. 연구자의 직관적 통찰은 질적 연구에서 요구된다.
- ③ (○) 연구 주제 선정 단계와 연구설계단계에서는 연구자의 가치 개입이 허용된다.
- ④ (×) 연구는 (나)→(다)→(마)→(라)→(가)의 순서로 진행된다.

문 12. 다음에 제시된 A~C에 대한 설명으로 옳은 것은?

- A. 회사 내 노동조합
- B. 직장 내 등산 동호회
- C. 환경 정책을 감시하는 시민단체

- ① A는 자발적 결사체이자 비공식 조직이다.
- ② B는 공식 조직으로 2차 집단의 성격이 강하다.
- ③ C는 A와 달리 자연 발생적으로 형성된 집단이다.
- ④ A~C는 모두 사회의 다원화에 기여하는 이익 사회이다.

[문12 해설] 정답④ 「사회집단의 유형」 난이도 하

- ① (×) 노동조합은 자발적 결사체이지만, 공식조직이다.
- ② (×) B는 비공식 조직으로 1차집단의 성격이 강하다.
- ③ (×) 자연발생적으로 형성된 집단은 공동사회이다. A와 C 모두 이익사회이다.
- ④ (○) A~C 모두 이익사회이며, 자발적 결사체이다. 이러한 자발적 결사체는 사회의 다원화에 기여한다.

문 13. 자료 수집 방법 (가)~(다)에 대한 설명으로 옳은 것은?

자료 수집 방법	특 징
(가)	<ul style="list-style-type: none"> - 비교적 짧은 시간에 다수의 대상으로부터 자료를 얻는 데 용이함 - 통계처리가 용이하며 비교 분석 연구에 적합함
(나)	<ul style="list-style-type: none"> - 문맹자에게도 사용할 수 있음 - 응답자만이 알고 있는 심층적인 정보를 얻을 수 있음
(다)	<ul style="list-style-type: none"> - 의사소통이 어려운 집단을 조사할 때 유용함 - 생동감 있고 깊이 있는 정보를 직접 파악할 수 있음

- ① (가)는 양적 연구에서 주로 활용되는 자료 수집 방법이다.
 ② (나)는 시간과 비용 측면에서 효율적이라는 장점이 있다.
 ③ (다)는 인위적인 상황을 만들어 변수 간의 인과관계를 파악하는 방법이다.
 ④ (가), (나)와 달리 (다)는 질적 연구에서 주로 활용되는 자료 수집 방법이다.

[문13 해설] 정답① 「자료수집방법」 난이도 하

(가)는 질문지법, (나)는 면접법, (다)는 참여관찰법이다.

- ① (○) 질문지법은 양적 연구에서 주로 활용된다.
 ② (×) 시간과 비용 측면에서 효율적인 자료수집방법은 질문지법이다.
 ③ (×) 실험법에 대한 설명이다.
 ④ (×) (나)의 면접법과 (다)의 참여관찰법 모두 질적 연구에서 주로 활용된다.

문 14. 사회화를 바라보는 갑과 을의 관점에 대한 설명으로 옳은 것은?

갑: 개인은 사회적 환경 속의 다른 대상자들처럼 자신을 대상으로 보는 과정을 통하여 자아를 형성해 간다. 또한 개인이 자아 관념을 형성하는 과정에서는 감정적으로 강한 애착을 느낄 수 있는 가족, 또래 집단 등이 중요하다.

을: 어린아이들이 게임을 하는 과정에서 각기 다른 사람들의 역할을 배우고, 게임의 규칙에 따라 주어진 역할을 모방함으로써 사회 전반적으로 받아들여지는 태도와 역할을 배우게 된다.

- ① 한 사회의 보편적인 가치나 규범은 사회의 지배 집단에 의하여 규정된다.
 ② 사회화를 거시적 관점에서 바라보며, 사회화는 사회구조의 안정과 질서를 유지하는 데 반드시 필요한 과정이다.
 ③ 사회화는 언어나 몸짓, 기호와 같은 상징을 사용하여 다른 사회 구성원과 상호 작용하는 과정을 통하여 이루어진다.
 ④ 사회화는 기존의 불평등한 사회구조를 정당화하려는 것이며, 기득권층에 유리한 가치와 행동을 학습시키는 과정이다.

[문14 해설] 정답③ 「사회화에 대한 관점」 난이도 하

갑과 을은 상징적 상호작용론이다.

- ① (×) 갈등론의 관점이다.
 ② (×) 기능론에 대한 설명이다.
 ③ (○) 상징적 상호작용론에 대한 설명이다.
 ④ (×) 갈등론에 대한 설명이다.

문 15. 다음 표는 부모 세대와 자녀 세대의 계층적 위치를 나타내고 있다. 이에 대한 설명으로 옳은 것은?

(단위: %)

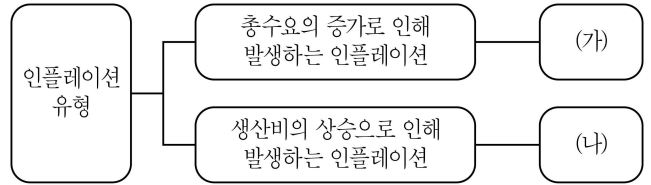
구분		부모의 계층			
		상	중	하	계
자녀의 계층	상	2	8	10	20
	중	6	14	40	60
	하	2	8	10	20
	계	10	30	60	100

- ① 자녀 세대의 계층 구조는 피라미드형이다.
- ② 부모 세대 상층의 경우 세대 간 이동은 일어나지 않았다.
- ③ 자녀 세대보다 부모 세대에서 세대 내 이동이 활발하게 일어났다.
- ④ 부모가 중층인 경우 세대 간 상승 이동 비율과 세대 간 하강 이동 비율은 같다.

[문15 해설] 정답④ 「세대 간 이동」 난이도 하

- ① (×) 자녀 세대의 계층구조는 다이아몬드형이다.
- ② (×) 부모 세대의 상층은 10%이다. 그 중 중층으로의 세대 간 이동은 6%, 하층으로의 세대 간 이동은 2%이다.
- ③ (×) 세대 내 이동을 알려면, 일정 시기에서 다음 시기로의 이동을 알아야 한다. 위의 표로는 세대 내 이동 여부를 파악할 수 없다.
- ④ (○) 부모가 중층인 경우 세대 간 상승이동 비율은 8%, 하강 이동 비율도 8%로 같다.

문 16. 그림 (가)와 (나)의 인플레이션 유형에 대한 설명으로 옳지 않은 것은? (단, 우하향하는 총수요곡선, 우상향하는 총공급곡선을 가정한다)



- ① (가)는 물가 상승과 경기 침체가 함께 발생하는 스태그플레이션(stagflation)을 발생시킬 수 있다.
- ② (나)의 원인은 임금 상승, 임대료 상승, 원자재 가격 상승 등이다.
- ③ (가)는 실질 GDP의 증가, (나)는 실질 GDP의 감소를 가져온다.
- ④ (가)는 총수요곡선의 우측 이동, (나)는 총공급곡선의 좌측 이동으로 나타난다.

[문16 해설] 정답① 「인플레이션」 난이도 하

- (가)는 수요견인 인플레이션, (나)는 비용상승 인플레이션이다.
- ① (×) 스태그플레이션은 (나)이다.
 - ② (○) 비용상승 인플레이션은 임금상승, 임대료상승, 원자재 가격상승 등 생산비가 상승할 때 나타난다.
 - ③④ (○) (가)는 총수요 곡선이 우측으로 이동하여 실질GDP가 증가하지만, (나)는 총공급 곡선이 좌측으로 이동하여 실질GDP가 감소한다.

문 17. 다음은 외부 효과가 존재하는 경우에 대한 설명이다. 각 빈칸에 적절한 내용으로 옳은 것은? (단, 우하향하는 수요 곡선, 우상향하는 공급곡선을 가정한다)

구분	생산 측면의 (가)	소비 측면의 (나)
영향	사회적 최적 가격보다 시장 균형 가격이 낮다. 사회적 최적 거래량에서 사회적 비용이 사적 비용보다 (㉠)	사회적 최적 가격보다 시장 균형 가격이 낮다. 사회적 최적 거래량에서 사회적 편익이 사적 편익보다 (㉡)
문제점	사회적 최적 수준보다 (㉢)	사회적 최적 수준보다 (㉣)
개선책	(㉤)	(㉥)

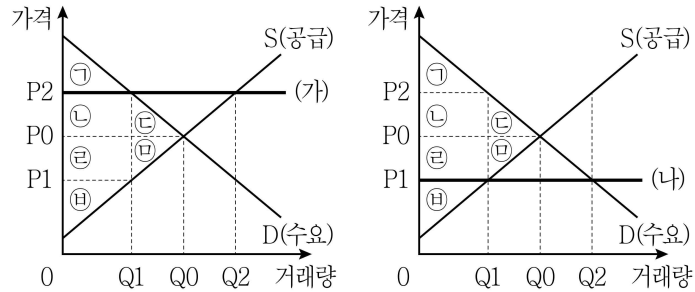
- ① (가)는 ‘외부 경제’, (나)는 ‘외부 불경제’이다.
 ② ㉠과 ㉡ 모두 ‘작다’이다.
 ③ ㉢은 ‘과다 생산’, ㉣은 ‘과소 소비’이다.
 ④ ㉤은 ‘소비자에게 보조금 지급’, ㉥은 ‘소비자에게 세금 부과’이다.

[문17 해설] 정답③ 「외부효과」 난이도 중

(가)는 외부불경제이고, (나)는 외부경제이다. ㉠은 크다. ㉡은 크다, ㉢ 과다생산, ㉣은 과소소비이다.

- ① (×) (가)는 외부불경제이고, (나)는 외부경제이다.
 ② (×) ㉠과 ㉡ 모두 ‘크다’이다.
 ③ (○) ㉢은 과다 생산이고, ㉣은 과소소비이다.
 ④ (×) ㉤은 생산자에게 환경세부과, ㉥은 소비자에게 보조금 지급이다.

문 18. 정부가 시장에 대해 두 가지 가격규제 정책 (가)와 (나)를 시행할 때 나타나는 변화에 대한 설명으로 옳은 것은?



- ① (가)를 시행하면 Q1 ~ Q2만큼 초과수요가 발생하고, 사회적 잉여 ㉢ + ㉣이 감소한다.
 ② (나)를 시행하면 생산자 잉여였던 ㉢ + ㉣은 소비자 잉여로 바뀐다.
 ③ (가)와 (나), 두 경우 모두 사회적 잉여 ㉢ + ㉣이 감소한다.
 ④ (가)를 시행하면 소비자 잉여가 증가하고, (나)를 시행하면 생산자 잉여가 증가한다.

[문18 해설] 정답③ 「최저가격제와 최고가격제」 난이도 중

(가)는 가격하한선인 최저가격제이고, (나)는 가격상한선인 최고가격제이다.

- ① (×) (가)를 시행하면, Q1~Q2만큼 초과공급이 발생하고, ㉢+㉣의 사회적 잉여가 감소한다.
 ② (×) (나)를 시행하면 ㉢만 소비자 잉여로 바뀐다. ㉣은 손실분이다.
 ③ (○) 두 정책을 시행하면 모두 ㉢+㉣만큼 사회적 잉여가 감소한다.
 ④ (×) (가)를 시행하면 소비자 잉여가 감소하고, (나)를 시행하면 생산자 잉여가 감소한다.

문 19. 다음은 미국 달러화에 대한 각 국가 통화 가치의 변동을 나타낸다. 이에 대한 분석으로 옳은 것은?

구분	원화	엔화
미국 달러화 대비 통화 가치	상승	하락

- ① 한국 기업의 달러 표시 외채 상환 부담이 증가한다.
- ② 일본 유학 중인 자녀에게 송금하는 한국 학부모의 학비 부담이 감소한다.
- ③ 한국으로 여행을 오는 미국 사람들의 여행 경비 부담이 감소한다.
- ④ 미국 시장에서 일본산 제품과 경쟁하는 한국산 제품의 가격 경쟁력이 강화된다.

[문19 해설] 정답② 「환율」 난이도 하

달러화 대비 원화의 통화가치가 상승하는 것은 원/달러 환율이 인하된 것이고, 엔화가치가 하락하는 것은 엔/달러 환율이 상승한 것이다. 즉, 통화가치는 원화>달러>엔화의 순이다.

- ① (×) 원화의 가치가 상승하였으므로 달러 표시 외채 상환 부담은 줄어든다.
- ② (○) 원화가치가 엔화가치보다 상대적으로 올랐기 때문에 일본에 송금하는 한국 학부모의 학비부담은 줄어든다.
- ③ (×) 달러가 원화의 가치보다 하락하였기 때문에 한국여행을 오는 미국 사람들의 여행 경비 부담은 증가한다.
- ④ (×) 원화가치가 엔화가치보다 상승하였으므로, 미국 시장 내에서 한국산 제품의 가격경쟁력은 떨어진다.

문 20. 다음은 각 연도의 물가 상승률과 명목 GDP 증가율을 나타낸다. 표에 대한 분석으로 옳은 것은? (단, 물가는 GDP 디플레이터로 측정되며, 실질 GDP 측정의 기준년도는 T - 1년이다)

구분	T년	T + 1년	T + 2년
물가 상승률(전년도 대비, %)	0	3	1
명목 GDP 증가율(전년도 대비, %)	0	3	-1

- ① T년의 GDP 디플레이터는 100보다 크다.
- ② T년에 비해 T + 1년의 실질 GDP는 증가하였다.
- ③ 실질 GDP는 T + 2년이 가장 크다.
- ④ GDP 디플레이터는 T + 2년이 가장 크다.

[문20 해설] 정답④ 「GDP와 물가」 난이도 중

T-1년의 명목GDP를 100이라고 가정하면, 다음 표와 같이 정리할 수 있다. 또는 [명목GDP증가율-물가상승률=실질GDP증가율]로 계산해도 된다.

	T-1	T	T+1	T+2
명목GDP	100	100	103	101.97
실질GDP	100	100	100	97.7
GDP디플레이터	100	100	103	104.3

- ① (×) 기준연도에서는 GDP디플레이터는 항상 100이고, 기준연도는 T-1년이다. T년에는 전년 대비 물가상승률이 0이므로 GDP디플레이터는 변하지 않았다. 따라서 T년의 GDP디플레이터는 100이다.
- ② (×) 실질GDP는 T년과 T+1년이 같다. 명목GDP증가율에서 물가상승률을 빼면 실질GDP증가율이 도출된다. 실질GDP증가율이 0이므로 실질GDP는 변하지 않았다.
- ③ (×) 실질GDP는 T+2년이 가장 작다. T+2년은 전년 대비 실질GDP가 2% 감소했다.
- ④ (○) GDP디플레이터의 증가율이 물가상승률이다. 따라서 T+2년의 GDP디플레이터가 가장 크다.