

회

정 답

1	2	3	4	5	6	7	8	9	10
4	1	3	2	4	4	3	2	1	2
11	12	13	14	15	16	17	18	19	20
4	4	2	3	3	2	2	1	4	4

출제 문항 분석

문항	영역	주제
1	법과 정치	국제연맹과 국제연합
2	법과 정치	선거결과 분석
3	법과 정치	정치참여집단
4	법과 정치	정치참여확대
5	법과 정치	게리맨더링
6	법과 정치	민사분쟁해결제도
7	법과 정치	책임성조각사유
8	법과 정치	소비자 권리 보호
9	법과 정치	사인간의 권리구제
10	법과 정치	미성년자의 감독자 책임
11	사회 문화	근대화를 바라보는 시각
12	사회 문화	세대간 계층 이동
13	사회 문화	실험법
14	사회 문화	사회실재론
15	사회 문화	관료제 조직
16	경 제	시장의 경쟁 정도에 따른 분류
17	경 제	금융시장의 종류
18	경 제	이자율 인하와 총수요의 변화
19	경 제	국제수지표
20	경 제	시장의 균형

출제 경향 및 학습 대책

2018년 지방직 공무원 채용시험에서는 법과 정치에서 10문제, 사회문화에서 5문제, 경제에서 5문제 출제되었습니다. 문제의 난이도는 중·상 정도로 출제되었습니다. 법과 정치 2번, 8번의 경우가 난이도가 있었으며 그리고 자료해석으로 12번, 경제에서는 18번 문제가 어려웠습니다. 하지만 해당 문제 모두 동일한 문제를 지방직 대비 실전모의고사에서 풀이하였으므로 무난하게 해결하였을 것으로 보입니다. 경제의 경우 이자율은 출제될 가능성이 크다고 경제약점정복과 실전모의고사 시간에 강조하였습니다. 문제 자체가 어렵다기 보다는 길이가 길어짐에 따라 시간이 많이 걸리는 것이 문제입니다. 그래서 문제를 보고 무엇을 묻는지를 빨리 알아내는 것이 사회 고득점의 관건입니다.

1. 국제연맹과 국제연합에 대한 설명으로 옳지 않은 것은?
- ① 국제연맹은 미국의 불참, 일본과 이탈리아의 탈퇴 등으로 인해 국제분쟁 해결에 무기력한 모습을 보였다.
  - ② 국제연합은 강대국들의 거부권을 인정한 안전보장이사회를 설치하였다.
  - ③ 국제연합은 전쟁 억제 이외에도 경제·사회·문화·인도적 차원에서 국가 간 협력을 추구하고 있다.
  - ④ 국제연합은 사법기관으로 국제형사재판소를 운영하고 있다.

국제연맹과 국제연합에 대한 문제이다.

정답찾기

- ④ 국제연합은 사법기관으로 국제형사재판소가 아닌 국제사법재판소를 운영하고 있다.

오답찾기

- ①, ②, ③ 맞는 선지이다.

정답 ④

문 2. 다음 갑국의 국회의원 선거 결과에 대한 추론으로 가장 적절한 것은? (단, 총 의석수는 300석으로 지역구는 254개 선거구에서 254석, 비례대표는 46석이다)

(단위: %)

정당	지역구 선거		비례대표 선거		총의석률
	득표율	의석률	득표율	의석률	
A	43.3	51.6	42.8	45.7	50.7
B	37.9	42.9	36.5	39.1	42.3
C	6.0	2.8	10.3	10.9	4.0
D	2.2	1.6	3.2	4.3	2.0
무소속	9.4	1.2	0	0	1.0

- ① 비례대표 선거에는 정당명부식 비례대표제가 채택되었을 것이다.
- ② 지역구 선거에는 다수당에 유리한 소수대표제가 적용되었을 것이다.
- ③ 지역구 선거에서 A당과 B당 후보자를 선택한 유권자의 표 중 사표는 없었을 것이다.
- ④ 지역구 선거에서 C당과 D당 후보에 투표한 유권자의 의사가 과대 대표되었을 것이다.

문제분석

지역구 선거에서 선거구가 254개이고 의석수가 254석이므로 한 선거구에서 한명의 대표가 선출되는 것이므로 소선거구제 다수대표제이다.

정답찾기

- ① 비례대표 선거에서는 무소속의 경우 득표율 자체가 없으므로 정당한테 투표하는 정당명부식 비례대표제가 채택되었을 것이다.

오답찾기

- ② 지역구 선거에서는 다수당에게 유리한 다수대표제가 적용되었을 것이다.
- ③ 지역구 선거에서 A당과 B당의 경우 득표율에 비해 의석률이 높으므로 의사가 과대대표되었으나 지역구 선거에서 의석을 차지하지 못한 선거구에서는 사표가 발생한다.
- ④ 지역구 선거에서 C당과 D당 후보에 투표한 유권자의 의사는 득표율보다 의석률이 낮으므로 과소대표되었다.

정답 ①

적중 : 지방직 대비 실전모의고사 6회 4번

4. 표는 우리나라 19대 국회의원 선거 결과이다. 이에 대한 옳은 분석을 <보기>에서 고른 것은?

(단위 : %)

정당	지역구 선거		비례대표 선거		총의석률
	득표율	의석률	득표율	의석률	
A당	43.3	51.6	42.8	46.3	50.7
B당	37.9	43.1	36.5	38.9	42.3
C당	6.0	2.8	10.3	11.1	4.3
D당	2.2	1.2	3.2	3.7	1.7
무소속	9.4	1.2	0	0	1.0

\* 19대 국회의 총의석수는 300석이다.

< 보 기 >

ㄱ. A당 소속 국회의원만으로도 개헌안을 의결할 수 있다.  
ㄴ. C당 소속 국회의원만으로도 법률안을 발의할 수 있다.  
ㄷ. 지역구 선거에서 A당과 B당 후보자를 선택한 유권자의 표 중 사표는 없다.  
ㄹ. 지역구 선거에서 C당과 D당 후보에 투표한 유권자의 의사가 과소 대표되었다.

① ㄱ, ㄴ      ② ㄱ, ㄷ      ③ ㄴ, ㄷ      ④ ㄴ, ㄹ

문 3. 다음 자료에 대한 분석으로 옳은 것은? (단, A C는 각각 정당, 이익집단, 시민단체 중 하나이다)

질문 \ 정치 참여 집단	A	B	C
공익(公益)실현을 추구합니까?	㉠	예	㉡
(가)	예	㉢	아니요

- ① (가)에는 ‘정치 사회화 기능을 합니까?’가 들어갈 수 있다.
- ② ㉠이 ‘아니요’라면 (가)에는 ‘정권 획득을 목적으로 합니까?’가 들어갈 수 있다.
- ③ (가)에 ‘선거에 후보자를 공천합니까?’가 들어간다면 ㉡은 ‘아니요’이다.
- ④ ㉡이 ‘예’라면 (가)에는 ‘정치 과정에 영향력을 행사합니까?’가 들어갈 수 있다.

정치참여집단에 대한 비교이다.

정답찾기

③ (가)에 ‘선거에 후보자를 공천합니까?’가 들어간다면 A는 정당이고 B는 공익실현을 추구하니까 시민단체 C는 이익집단이다. 따라서 ㉡은 ‘아니요’이다.

오답찾기

① 정치사회화 기능은 정당, 이익집단, 시민단체 모두 다 있으므로 (가)에 들어갈 수 없다.

- ② ㉠이 ‘아니요’라면 A는 공익실현을 추구하지 아니하므로 이익집단이다. 이익집단은 정권획득을 목적으로 하지 아니하므로 (가)에 ‘정권 획득을 목적으로 합니까?’가 들어갈 수 없다.
- ④ 정치과정에 정당, 이익집단, 시민단체 모두 영향력을 행사하므로 (가)에 ‘정치 과정에 영향력을 행사합니까?’가 들어갈 수 없다.

정답 ③

적중 : 매모사 1월 6회 5번

문 5. 자료에 대한 설명으로 옳지 않은 것은? (단, (가)~(다)는 각각 정당, 이익 집단, 시민 단체 중 하나이다.)

질문 \ 정치 참여 집단	(가)	(나)	(다)
공익을 추구합니까?	예	( ㉠ )	( ㉡ )
( A )	아니요	예	아니요

① ㉡이 ‘아니요’이면 시민 단체는 (가), (나) 중 하나이다.

② A에는 ‘정치 과정에 영향력을 행사합니까?’가 들어갈 수 없다.

③ A가 ‘정권 획득을 추구합니까?’이면 ㉡에 ‘아니요’가 들어간다.

④ ㉠이 ‘예’이면 A에 ‘집단 구성원의 이해관계를 중시합니까?’가 들어갈 수 있다.

문 4. 다음은 신문 기사 제목을 나열한 것이다. 다음의 주장들이 실현될 경우 기대되는 효과로 가장 적절한 것은?

- ‘실질적 투표권 달라’며 투표시간 연장을 요구하는 서명 운동 벌여
- 정당 설립 요건 완화해야
- 투표율을 높이기 위해서 사전 투표 제도 도입해야

- ① 법 제정 과정에서의 신속성이 제고될 것이다.
- ② 시민의 정치적 의사 반영 기회가 확대될 것이다.
- ③ 대표자의 권한이 강화될 것이다.
- ④ 직접민주주의가 활성화될 것이다.

문제분석

투표시간 연장, 정당설립 요건 완화, 사전 투표제도는 정치적 참여를 용이하게 하여 준다.

정답찾기

② 투표시간 연장, 정당설립 요건 완화, 사전 투표제도는 정치적 참여를 용이하게 하여 시민의 정치적 의사 반영 기회가 확대될 것이다.

오답찾기

- ① 참여가 늘어나면 법 제정 과정에서의 신속성은 떨어질 수 있다.
- ③ 정당이 늘어나면 대표자의 권한을 견제할 수 있고 선거에의 참여를 통해 대표자의 권한을 통제할 수 있을 것이다.
- ④ 선거에서의 투표를 용이하게 하고 정당을 통해 대의민주주의를 잘 구현하기 위한 것이지 직접민주주의를 활성화되는 것은 아니다.

정답 ②

문 5. 다음 (가)와 관련된 설명으로 적절한 것만을 <보기>에서 모두 고르면?

(가)는 미국의 매사추세츠주 주지사였던 게리(E. Gerry)가 자기가 속한 공화당의 후보들에게 유리하게 선거구를 획정한 결과를 나타낸다. 그 모습이 그리스 신화에 나오는 도롱뇽(Salamander)과 비슷하다고 하여 유래하였다.

- <    기    > —————
- ㄱ. (가)는 공정한 선거를 위해 불가피하다.
  - ㄴ. 우리나라의 경우 대통령 선거보다 국회의원 선거에서 (가)가 나타날 가능성이 높다.
  - ㄷ. 우리나라의 경우 지역구 국회의원 선거보다 비례대표 국회의원 선거에서 (가)가 나타날 가능성이 높다.
  - ㄹ. 정치권으로부터 독립적인 선거구 획정위원회를 제도화하면 (가)를 방지하는 데 도움이 된다.

- ① ㄱ, ㄴ
- ② ㄱ, ㄷ
- ③ ㄴ, ㄷ
- ④ ㄴ, ㄹ

(가)는 게리맨더링으로서 자의적인 선거구 획정을 뜻한다.

정답찾기

- ㄴ. 우리나라의 경우 대통령 선거는 전국을 하나의 선거구로 하여서 실시하는 반면 국회의원 지역구 선거에서는 여러 개의 선거구를 획정하여야 하므로 게리맨더링이 나타날 가능성이 높다.
- ㄹ. 정치권으로부터 독립적인 선거구 획정위원회를 제도화한다면 중립적으로 선거구를 획정할 수 있으므로 게리맨더링을 방지할 수 있다.

오답찾기

- ㄱ. 공정한 선거를 위해서는 자의적인 선거구 획정을 막아야 한다.
- ㄷ. 비례대표 국회의원 선거는 전국을 하나의 선거구로 하여서 실시하는 반면 국회의원 지역구 선거에서는 여러 개의 선거구를 획정하여야 하므로 지역구 국회의원 선거에서 게리맨더링이 나타날 가능성이 높다.

정답 ④

문 6. 다음에서 민사분쟁 해결제도에 대한 설명으로 옳은 것만을 모두 고르면?

- ㄱ. 내용증명우편에는 우편에 기재된 내용 그대로 사실관계가 법적으로 확정되는 효력이 있다.
- ㄴ. 민사조정제도는 민사소송을 제기하기 위한 전심절차로서 반드시 거쳐야 한다.
- ㄷ. 대한법률구조공단은 법률구조사업을 효율적으로 추진하기 위해 설립된 공공기관이다.
- ㄹ. 소액사건 심판제도는 제소한 때의 소송목적의 값이 3,000만 원을 초과하지 아니하는 금전 기타 대체물이나 유가증권의 일정한 수량의 지급을 목적으로 하는 간편하고 신속한 심판절차이다.

- ① ㄱ, ㄴ
- ② ㄱ, ㄷ
- ③ ㄴ, ㄹ
- ④ ㄷ, ㄹ

문제분석

민사분쟁 해결제도에 대한 문제이다.

정답찾기

ㄷ, ㄹ. 은 맞는 선지이다.

오답찾기

- ㄱ. 내용증명우편에는 우편에 기재된 내용 그대로 사실관계가 법적으로 확정되는 효력이 없고 발송사실만을 입증해 준다.
- ㄴ. 민사조정제도는 민사소송을 위한 전심절차가 아니다. 민사조정제도를 거쳐도 되고, 아님 바로 민사소송으로 갈 수 도 있다.

정답 ④

적중 : 지방직 대비 실전모의고사 9회 3번

문 3. (가)~(다)에 대한 설명으로 옳은 것은?

구분	내용
(가)	특정 내용의 문서를 발송했다는 사실을 우체국이 공적으로 증명해 주는 특수한 우편 제도
(나)	법관이나 법원의 조정 위원회 등이 양측의 주장을 듣고 조정안을 제시하여 분쟁 당사자들이 합의할 수 있도록 돕는 제도
(다)	3천만 원을 초과하지 않는 금전 지급을 목적으로 하는 경미한 사건에 대하여 정식 소송이 아닌 방법으로 진행되는 재판 제도

① (가)는 발송한 문서 내용의 사실 관계를 확정짓는 법적 효력을 갖는다.

② (나)는 정식 소송을 제기하기 전에 거쳐야 하는 필수적 절차이다.

③ (다)에서 원고는 승소를 위해 사실 관계를 증명해야 한다.

④ (나)와 달리 (다)는 정식 소송보다 적은 비용으로 간편하게 분쟁을 해결하는 제도이다.

7. 다음 사례에 대한 법적 판단으로 옳은 것은?

갑은 ○○전자회사에서 근무하는 40대 회사원으로 두 아들이 있으며, 현재 회사 내 신기술 연구에 참여하고 있다. 그런데 얼마 전 경쟁업체 직원 을이 현재 연구 중인 ○○전자회사 신기술 관련 정보를 빼내어 자신에게 알려주지 않으면 두 아들을 살해하겠다고 협박했다. 갑이 이에 응하지 않자 을은 초등학교생인 갑의 차남 병을 유인하여 데리고 있으며 언제든지 병에게 위해를 가할 수 있다는 메시지를 전달했다. 병의 생명에 대한 을의 위해를 방어할 방법이 없자 갑은 당해 신기술 관련 정보를 을에게 알려주었다.

- ① 갑의 행위는 구성요건에 해당하지만 위법성이 인정되지 않는다.
- ② 갑의 행위는 정당행위에 해당하여 책임이 없다.
- ③ 갑의 행위는 구성요건에 해당하지만 책임이 조각된다.
- ④ 갑의 행위는 위법성이 인정되므로 범죄가 성립된다.

갑이 신기술 관련 정보를 을에게 알려준 것은 범죄의 구성요건에 해당하고 위법성이 인정된다. 하지만 책임성 조각 사유에 해당한다.

정답찾기

③ 갑의 행위는 구성요건에 해당하고 위법성도 있지만 거부할 수 없는 강요된 행위로 인한 것이므로 책임성이 조각된다.

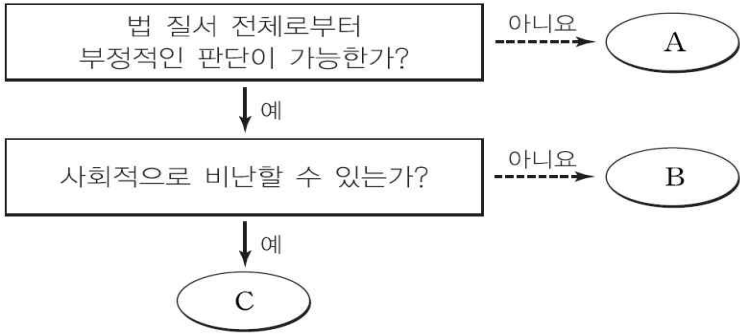
오답찾기

- ① 구성요건과 위법성 모두 인정된다.
- ② 위법성 조각사유인 정당행위는 아니다.
- ④ 구성요건과 위법성은 인정되지만 책임성이 없으므로 범죄가 성립하지 아니한다.

정답 ③

적중 : 지방직 대비 실전모의고사 2회 1번

문 1. 그림은 범죄 성립의 구성 요건에 해당하는 행위에 대한 판단을 구분한 것이다. 이에 대한 옳은 설명만을 <보기>에서 있는 대로 고른 것은?



- < 보 기 > ——
- ㄱ. 법령에 의한 행위나 업무에 의한 행위 등은 A에 포함된다.
  - ㄴ. 7세의 아이가 돌을 던져 자동차를 부순 경우, 감독자의 감독행위는 A에 해당한다.
  - ㄷ. 중환자를 수술하는 과정에서 환자의 배를 가른 의사의 행위는 B에 해당한다.
  - ㄹ. C에 해당하는 경우 확정된 형의 선고를 유예하는 판결을 받을 수 있다.

- ① ㄱ, ㄷ
- ② ㄱ, ㄹ
- ③ ㄴ, ㄷ
- ④ ㄱ, ㄴ, ㄹ





10. 다음 사례에 대한 법적 판단으로 옳은 것은?

학교에서 계속 최상위권을 유지하고 있는 고등학생 갑(만 17세)은 학교가 끝나면 무면허로 아버지의 승용차를 운전하는 일탈 행위를 즐기고 있었다. 그러다 결국 집 근처 길가에 주차된 을과 병의 승용차를 파손시켰다. 갑의 부모는 작은 가게를 운영하느라 갑의 일탈 행위를 전혀 몰랐으므로 자신들은 어떠한 법적 책임도 없다고 주장하고 있다.

- ① 갑이 손해배상책임이 있다면 갑의 부모도 갑의 행위에 대한 감독 의무를 게을리한 것으로 간주된다.
- ② 갑은 특별한 사정이 없는 한 책임능력이 있다고 판단되므로 을과 병에 대한 손해배상책임이 있다.
- ③ 갑은 을과 병에 대하여 채무불이행에 근거한 손해배상책임을 진다.
- ④ 갑은 형사미성년자이므로 형벌을 부과받지 않는다.

책임능력이 있는 미성년자의 불법행위와 미성년자의 불법행위에 대한 부모의 손해배상책임에 관한 문제이다.

정답찾기

② 갑은 책임능력이 있는 미성년자이므로 을과 병에 대한 손해배상책임이 있다.

오답찾기

- ① 갑이 손해배상책임이 있다면 갑의 부모도 갑의 행위에 대한 감독 의무를 게을리 한 것으로 간주되는 것이 아니라, 그 손해가 부모가 감독의무를 위반한 것과 상당한 인과관계가 있을 때에 한해서 부모가 손해배상책임이 있다고 하고, 그러한 경우 부모가 감독의무를 위반한 사실과 그로 인해서 손해가 발생했다는 개연성과의 관계는 피해자측에서 입증해야만 한다.
- ③ 갑은 을과 병에 대한 채무불이행에 대한 손해배상이 아니라 불법행위로 인한 손해배상이다.
- ④ 형사미성년자는 만 14세 미만이므로 갑은 형사미성년자가 아니다.

정답 ②

적중 : 지방직 대비 실전모의고사 1회 9번

문 9. 다음 사례에서 해결해야 할 법률관계에 대한 옳은 설명을 <보기>에서 고른 것은?

갑의 부모는 만 18세의 생일을 맞은 갑에게 생일 선물로 자동차를 사주고, 운전을 허락해 주었다. 이에 갑은 운전면허도 없는 상태에서 음주 운전을 하다가, 지나가던 행인인 을을 치어 다치게 했다.

- < 보 기 >——
- ㄱ. 을은 갑에게 일반 불법 행위에 대한 책임을 물어 손해 배상을 청구할 수 있다.
  - ㄴ. 을은 갑과 갑의 감독자에게 모두 과실 책임을 물어 손해 배상을 청구할 수 있다.
  - ㄷ. 을은 갑의 감독자에게 특수 불법 행위에 대한 책임을 물어 손해 배상을 청구할 수 있다.
  - ㄹ. 을은 갑에게는 손해 배상을 청구할 수 없으며, 갑의 감독자에게만 손해 배상을 청구할 수 있다.

- ① ㄱ, ㄴ                      ② ㄱ, ㄷ                      ③ ㄴ, ㄷ                      ④ ㄴ, ㄹ

11. 근대화를 바라보는 이론적 시각에 대한 설명으로 옳지 않은 것은?
- ① 근대화론은 모든 사회가 일정한 단계를 거쳐 발전한다고 전제한다.
  - ② 근대화론은 서구 중심적이며 기능론적인 관점을 반영하고 있다.
  - ③ 종속 이론은 세계 체계를 중심부와 주변부로 나눈다.
  - ④ 종속 이론은 주변부가 미(未)발전 상태에 머물 수밖에 없다고 주장한다.

근대화론과 종속이론에 관한 문제이다.

정답찾기

- ④ 종속 이론은 주변부가 미발전이 아니라 저발전 상태에 머물 수밖에 없다고 주장한다.

오답찾기

① , ②, ③은 맞는 선지이다.

정답 ④

적중 : 지방직 대비 실전모의고사 4회 20번

A, B는 근대화를 설명하는 두 이론이다. 이에 대한 옳은 진술만을 <보기>에서 있는 대로 고른 것은?

A는 기본적으로 근대화를 진보적 사회 변동으로 이해하며, 변동은 필연적으로 근대화를 지향하므로 저개발국은 선진국의 개발 경로를 따르게 되어 있다고 본다. 이후 A에 대해 서구 중심적인 사고라는 비판을 하며, 자국의 실정에 맞게 주체적으로 발전해야 한다는 이론인 B가 등장하였다. B는 제3세계가 아직 발전이 안 된 상태가 아니라 구조적으로 선진국들에 의해 발전하지 못하고 있는 상태라고 본다.

——— < 보 기 > ———

ㄱ. A는 세계 국가가 중심부와 주변부로 나뉘어 있다고 전제한다.

ㄴ. A는 서구 강대국의 제국주의 침략을 정당화하는 근거가 되기도 하였다.

ㄷ. B는 전통과 근대의 공존 및 보완 관계를 강조하여 다양한 근대화의 가능성을 인정한다.

ㄹ. B는 제3세계 국가들이 저발전 상태에 있는 이유를 국제 사회의 힘의 불균형 관계에서 찾는다.

① ㄱ, ㄴ      ② ㄱ, ㄷ      ③ ㄴ, ㄹ      ④ ㄱ, ㄷ, ㄹ

문 12. 다음 A국의 세대 간 계층 이동을 나타낸 표에 대한 분석으로 옳은 것은?

(단위: %)

부모 \ 자식	상층	중층	하층	계
상층	13	1	3	17
중층	2	28	28	58
하층	1	2	22	25
계	16	31	53	100

- ① A국은 폐쇄적 계층 구조 형태를 띠고 있다.
- ② 자식 세대에는 사회의 양극화 현상이 심화되고 있다.
- ③ 상승 이동에 비하여 하강 이동의 비율이 높게 나타난다.
- ④ 부모 세대에 비하여 자식 세대의 계층 구조가 안정적이다.

문제분석

A국의 세대 간 계층이동에 관한 자료해석문제이다.

정답찾기

- ④ 부모 세대의 경우 피라미드형 계층구조이고 자녀 세대의 경우 다이마몬드형 계층구조이다. 따라서 자식 세대의 계층구조가 더 안정적이다.

오답찾기

- ① A국의 경우 세대 간 계층이동이 일어났으므로 개방적 계층 구조 형태를 띠고 있다.
- ② 자식 세대에는 중층의 비율이 늘어났으므로 사회의 양극화 현상이 완화되었다.
- ③ 부모가 중층인데 자식이 상층인 경우(1%)와 부모가 하층인데 자식이 중층(28%)이거나 상층(3%)인 경우가 상승이동을 한 것으로서 32%에 해당한다. 부모가 상층에서 자식이 중층(2%)이거나 하층(1%)인 경우와 부모가 중층인데 자식이 하층(2%)인 경우가 하강이동을 한 것으로서 5%에 해당한다. 따라서 상승이동 비율이 더 높게 나타났다.

정답 ④

적중 : 국가직 대비 실전모의고사 12회 20번

문 20. 표에 대한 분석으로 옳은 것은? (단, 자녀 세대 중 부모가 같은 사람은 없다.)

〈갑국의 부모와 자녀 간 계층 비교〉

(단위: %)

구분	부모의 계층			계	
	상층	중층	하층		
자녀의 계층	상층	11	7	8	26
	중층	5	25	17	47
	하층	2	4	21	27
계		18	36	46	100

- ① 자녀 세대의 계층 구조는 피라미드형이다.
- ② 자녀로의 계층 세습률은 부모 세대 계층 중 중층이 가장 높다.
- ③ 자녀 세대에서 부모의 계층을 세습한 사람보다 세대 간 이동한 사람이 많다.
- ④ 자녀 세대에서 세대 간 상승 이동한 사람보다 세대 간 하강 이동한 사람이 많다.

13. 다음에서 밑줄 친 ㉠ ~ ㉣에 대한 설명으로 옳은 것은?

- 연구 주제: 사원들의 ㉠ 직무 만족도에 ㉡ 사기 진작 프로그램이 미치는 영향
- 연구 가설: ㉢ 사기 진작 프로그램의 시행은 직무 만족도를 높일 것이다.
- 변수 측정
  - 직무 만족도: 표준화된 직무 만족 측정 도구(5점 척도, 5문항)
  - 사기 진작 프로그램: 매주 수요일 오후 자율적 야외 체육활동
- 연구 과정: ○○회사 전 직원 가운데 500명을 무작위 추출한 후, 다시 무작위로 250명씩 ㉣A집단과 ㉤B집단으로 나누었다. 두 집단을 대상으로 직무 만족도를 ㉥1차 측정한 결과 집단별 직무 만족도의 평균값은 통계적으로 의미 있는 차이를 보이지 않았다. 이후 A집단에는 매주 수요일 오후 자율적 야외 체육활동을 허락한 반면, B집단에는 아무런 변화도 주지 않았다. ㉦한 달 후 두 집단의 직무 만족도를 같은 문항을 통해 2차 측정한 결과, B집단의 2차 평균값은 1차 평균값과 동일하게 나타난 반면, A집단의 2차 평균값은 1차 평균값에 비해 통계적으로 의미 있는 수준에서 증가한 것으로 나타났다.

※ A집단 모두 자율적으로 야외 체육활동에 참여하였고, 사기 진작 프로그램 이외 다른 변수의 효과는 통제된 것으로 간주함

- ① ㉠은 독립 변수, ㉡은 종속 변수이다.
- ② ㉢의 경험적 검증을 위해서는 계량화된 자료의 획득이 중요하다.
- ③ ㉣은 통제 집단, ㉤은 실험 집단이다.
- ④ ㉥과 ㉦ 모두에서 두 집단 간 직무 만족도 평균값의 차이가 클수록 가설 채택의 가능성이 높아진다.

실증적 연구방법에서 자료수집방법 중 실험법에 관한 문제이다.

정답찾기

- ② 실증적 연구방법에서 ㉢가설의 경험적 검증을 위해서는 통계자료와 같은 계량화된 자료의 획득이 중요하다.

오답찾기

- ① ㉠은 종속변수, ㉡은 독립변수이다.
- ③ ㉣ A집단은 사기진작 프로그램을 실시하였으므로 실험집단이고 ㉤ B집단은 아무런 변화를 주지 않았으므로 통제집단이다.
- ④ ㉥과 ㉦ 차이가 A집단이 B집단보다 직무 만족도 평균값의 차이가 더 클 때 가설 채택의 가능성이 높아진다.

정답 ②

적중 : 매모사 2월 5회 18번

문 18. 밑줄 친 ㉠~㉣에 대한 옳은 설명을 <보기>에서 고른 것은?

㉠ 본 연구는 청소년을 대상으로 ㉡ 진로 성숙도에 ㉢ 진로 설계 프로그램이 미치는 효과를 분석하기 위하여 실시되었다. 연구 대상자를 두 집단으로 나누어 연구자가 개발한 검사지를 통해 ㉣ 사전 검사와 ㉤ 사후 검사를 하였다. 그 결과 ㉥ 진로 설계 프로그램에 참여하지 않고 그대로 둔 집단과 ㉦ 진로 설계 프로그램에 참여한 집단은 사전 검사에서는 유의미한 차이를 보이지 않았지만 사후 검사에서는 유의미한 차이를 보였고, 진로 설계 프로그램의 효과성이 입증되었다.

< 보 기 >

- ㄱ. ㉠은 방법론적 일원론에 기초한 연구 방법을 사용하였다.
- ㄴ. ㉡은 독립 변인, ㉢은 종속 변인이다.
- ㄷ. ㉣과 ㉤ 모두 ㉡을 측정하는 검사이다.
- ㄹ. ㉥은 실험 집단, ㉦은 통제 집단이다.

- ① ㄱ, ㄴ                      ② ㄱ, ㄷ                      ③ ㄴ, ㄷ                      ④ ㄴ, ㄹ



14. 다음 글에 나타난 개인과 사회의 관계를 바라보는 관점이 갖는 한계에 대한 설명으로 옳은 것은?

사회현상은 자유의지를 가진 개인들로부터 비롯되지만 사회현상에 대한 탐구는 개인의 행위나 사고로 환원될 수 없다. 사회에 대한 탐구는 사회적 사실에 대한 탐구이며 사회적 사실이란 행위자들의 외부에 존재하며 그들에게 강제적인 영향력을 행사하는 사회구조들과 문화적 규범 및 가치관들이다.

- ① 개인을 위한 전체의 희생을 합리화할 우려가 있다.
- ② 개인의 행위에 대한 사회구조의 영향력을 과소평가한다.
- ③ 사회를 구성하는 개인의 주체성과 능동성을 간과한다.
- ④ 개인과 사회의 상호작용을 지나치게 강조한다.

개인과 사회의 관계를 바라보는 관점 중 사회실재론에 해당한다.

정답찾기

③ 사회실재론은 사회를 구성하는 개인의 주체성과 능동성을 간과한다.

오답찾기

- ① 사회실재론은 전체를 위한 개인의 희생을 합리화할 우려가 있다.
- ② 개인의 행위에 대한 사회구조의 영향력을 과소평가하는 것은 사회명목론이다.
- ④ 사회실재론은 개인과 사회의 상호작용을 지나치게 강조하지 않는다.

정답 ③

적중 : 매모사 9월 1회 18번

문 18. 개인과 사회의 관계를 바라보는 다음 글의 관점에 부합하는진술만을 <보기>에서 있는 대로 고른 것은?

사회의 구성원인 개인은 생물 유기체의 한 부분으로 저마다 맡은 역할을 수행하면서 나름대로의 기능을 수행한다. 따라서 개인은 사회를 떠나서는 존재할 수 없고, 사회가 갖고 있는 규범이나 사회적 가치에 따라 사고하고 행동하게 된다. 생물 유기체에서 볼 수 있는 생명 조직의 질서와 생명 발전의 논리는 그대로 사회 질서와 발전에도 적용된다.

<보 기>

- ㄱ. 사회는 개인의 합을 뛰어넘는 독립적인 실체이다.
- ㄴ. 사회는 구성원 개개인의 성질과는 다른 고유한 특성을 지닌다.
- ㄷ. 사회는 그 자체를 구성하고 있는 부분 요소로 환원될 수 없다.
- ㄹ. 개인이 모여 전체를 이루어도 개인은 자기 자신에게만 복종한다.

- ① ㄱ, ㄴ
- ② ㄱ, ㄹ
- ③ ㄷ, ㄹ
- ④ ㄱ, ㄴ, ㄷ

문 15. 다음 글의 ‘이 조직’에 대한 설명으로 <보기>에서 옳은 것만을 모두 고르면?

막스 베버(M. Weber)는 ‘이 조직’을 합리적 권위가 지배하는 조직이라고 보았는데, ‘이 조직’이 근대 사회의 지배적인 조직으로 성장한 것은 바로 그 합리성에 있었다. 조직 구성과 과업 부여, 과업 수행 등 모든 과정에 있어서 철저하게 합리성을 추구함으로써 ‘이 조직’은 근대 산업 사회의 요구를 효율적으로 수행할 수 있었다.

<보 기>

- ㄱ. 비공식 조직의 중요성을 인정하고 강조한다.
- ㄴ. 구성원의 능력을 보여주는 지표로 경력 및 연공서열을 중시한다.
- ㄷ. 업무 수행 결과에 대한 책임 소재가 불분명하다는 단점이 있다.
- ㄹ. 문서에 의한 업무 수행이 중시된다.

- ① ㄱ, ㄴ
- ② ㄱ, ㄷ
- ③ ㄴ, ㄹ
- ④ ㄷ, ㄹ

문제분석

막스베버의 관료제에 대한 문제이다.

정답찾기

ㄴ, ㄹ 맞는 선지이다.

오답찾기

- ㄱ. 관료제에서는 비공식 조직의 중요성을 인정하고 강조하지 않는다.
- ㄷ. 관료제에서는 업무 수행 결과에 대한 책임 소재가 분명하다.

정답 ③

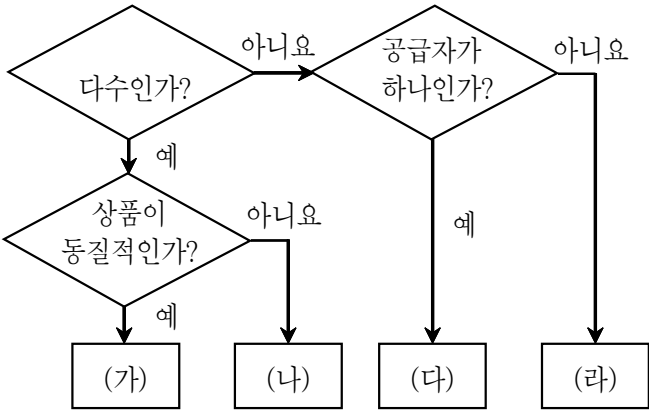
적중 : 지방직 대비 실전모의고사 9회 18번

문 18. 그림은 조직 운영의 원리 A, B를 비교한 것이다. 이에 대한 설명으로 옳은 것은? (단, A, B는 각각 관료제와 탈관료제 조직 중 하나이다.)



- ① A는 B보다 중간 관리층의 역할 비중이 낮다.
- ② A는 소품종 대량 생산 방식, B는 다품종 소량 생산 방식에 적합하다.
- ③ (가)에는 ‘엄격한 위계질서를 강조하는가?’가 적절하다.
- ④ (나)에 ‘효율적인 과업 수행을 지향하는가?’는 들어갈 수 없다.

16. 다음은 시장의 경쟁 정도에 따른 분류이다. (가) ~ (라)에 대한 설명으로 옳지 않은 것은?



- ① (가)는 진입 장벽이 존재하지 않는다.
- ② (나)에서 개별 기업은 시장 가격에 전혀 영향을 미칠 수 없다.
- ③ (다)에서 개별 재화에 좋은 대체재가 될 수 있는 재화가 존재하지 않는다.
- ④ (라)에서는 기업들 간의 담합이 일어나기에 알맞은 상황이 구성되어 있다.

(가)는 완전경쟁시장, (나)는 독점적 경쟁시장, (다)는 독점시장, (라)는 과점시장이다.

정답찾기

② (나) 독점적 경쟁시장에서는 이질의 상품이 제공되기 때문에 개별기업이 시장 가격에 영향을 미칠 수 있다. 개별기업이 개별시장에 영향을 미치지 못하는 것은 완전경쟁시장에서이다.

오답찾기

①, ③, ④은 맞는 선지이다.

정답 ②

적중 : 경제클리닉 3단원 2번

문 2. 다음 그림은 공급자의 수와 상품의 동질성 여부에 따라 시장을 구분한 것이다. A~D시장에 대한 설명으로 가장 옳은 것은?

```
graph TD
    Q1{공급자가 다수인가?} -- 예 --> Q2{상품이 동질적인가?}
    Q1 -- 아니요 --> Q3{공급자가 1인인가?}
    Q2 -- 예 --> D[D]
    Q2 -- 아니요 --> C[C]
    Q3 -- 예 --> A[A]
    Q3 -- 아니요 --> B[B]
```

- ① A시장에서는 담합이나 카르텔이 형성된다.
- ② B시장에서는 대체재가 존재하지 않는다.
- ③ C시장보다 D시장에서의 자원배분이 더 효율적이다.
- ④ D시장에서는 개별 공급자가 가격에 영향을 미친다.

문 17. (가)와 (나)는 금융 시장의 유형을 분류한 것이다. 이에 대한 설명으로 옳은 것은? (단, (가)와 (나)는 직접 금융 시장, 또는 간접 금융 시장 중 하나이다)

(가)	<ul style="list-style-type: none"><li>○ 금융 기관은 자금 수요자에게 정보 제공을 받아 자금 공급자에게 정보를 제공한다.</li><li>○ 자금 공급자는 자금 수요자에게 자금을 공급하고, 이에 대한 대가로 이자나 배당을 받는다.</li></ul>
(나)	<ul style="list-style-type: none"><li>○ 금융 기관은 자금 공급자에게 예금을 받고 이에 대한 대가로 이자를 준다. 또한, 금융 기관은 자금 수요자에게 대출을 해주고 이에 대한 대가로 이자를 받는다.</li><li>○ 자금 공급자와 자금 수요자 간에는 직접적인 자금 거래는 없다.</li></ul>

- ① (가)에 비해 (나)에서 자금 공급자의 자금이 어느 기업으로 투자되었는지 알기 쉽다.
- ② (가)에 비해 (나)에서 금융 상품이 일반적으로 안전성이 더 높다.
- ③ (나)에서는 자금 공급자가 자금 거래로 인해 발생하는 위험을 전액 부담한다.
- ④ (가)에서 거래되는 대표적인 금융 상품으로 정기적금이 있다.

문제분석

(가)는 직접 금융 시장, (나)는 간접 금융 시장이다.

정답찾기

② 직접 금융시장보다 간접 금융시장에서 금융상품이 일반적으로 안정성이 더 높다.

오답찾기

- ① (가) 직접 금융시장이 자금 공급자의 자금이 어느 기업에 투자되었는지 알기 쉽다.
- ③ (가) 직접 금융시장에서 자금 공급자가 자금 거래로 인해 발생하는 위험을 전액 부담한다.
- ④ 정기적금은 대표적인 (나) 간접 금융시장에서 거래되는 상품이다.

정답 ②

적중 : 국가직 대비 실전모의고사 2회 14번

문 14. 금융 시장 (가), (나)에 대한 옳은 설명을 <보기>에서 고른 것은? (단, (가)와 (나)는 직접 금융 시장과 간접 금융 시장 중 하나이다.)

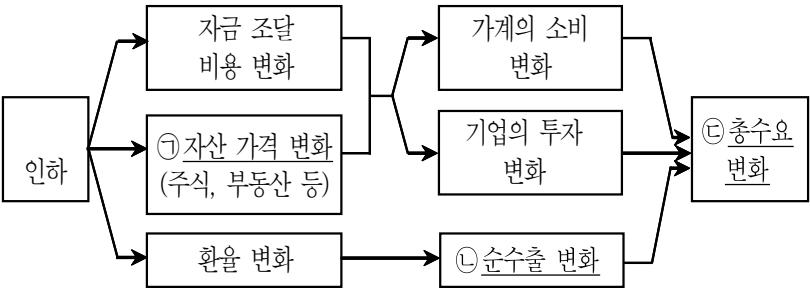
(가) 자금 공급자와 수요자가 직접 거래하여 자금이 어느 수요자에게 갔는지 알 수 있는 시장  
(나) 자금 공급자와 수요자가 직접 거래하지 않아 자금이 누구에게 갔는지 명확히 드러나지 않는 시장

< 보 기 >

- ㄱ. 증권 회사는 (가)에서 활동하지 않는다.
- ㄴ. (나)에서 활동하는 금융 기관의 예로 은행이 있다.
- ㄷ. (나)에서 자금 공급자는 금융 거래에서 발생할 수 있는 모든 위험을 직접 부담한다.
- ㄹ. 일반적으로 자금 공급자는 (나)보다 (가)에서 더 높은 수익률을 기대한다.

- ① ㄱ, ㄴ
- ② ㄱ, ㄷ
- ③ ㄴ, ㄷ
- ④ ㄴ, ㄹ

18. 다음은 중앙은행이 이자율을 인하하는 경우, 총수요에 영향을 미치는 여러 경로를 나타낸 것이다. ㉠ ~ ㉣의 변화로 옳은 것은? (단, 유동성합정이 존재하지 않고, 각 경제주체는 경제를 낙관적으로 예상한다)



- ㉠                      ㉡                      ㉢
- ① 상승                  증가                  증가
- ② 상승                  감소                  증가
- ③ 하락                  감소                  감소
- ④ 하락                  증가                  감소

중앙은행이 이자율을 인하하였을 경우의 총수요에 미치는 영향에 관한 문제이다. 이자율이 하락하면

- ㉠ 자금 조달 비용이 하락하여서 기업의 경우 투자를 증가시키고 가계의 경우 소비의 기회비용이 이자율이므로 이자율이 하락하면 소비가 증가한다.
- ㉡ 그리고 자금이 주식시장이나 부동산 시장으로 이동하므로 주식이나 부동산의 수요가 증가하여 자산 가격이 상승한다.
- ㉢ 그리고 이자율이 하락하면 외환시장에서 이자율이 더 높은 외국으로의 외화이동이 일어나므로 외화의 수요가 증가한다. 그로인해 환율이 상승한다. 환율이 상승하면 수출이 증가하고 수입이 감소하여서 순수출이 증가한다. 이런 복합적인 요소로 인해 총수요가 증가한다.

정답찾기

- ① 자산 가격은 상승하고, 환율 상승으로 인해 순수출이 증가하고 , 총수요도 증가한다.

정답 ①

적중 : 경제 약점정복 테마 8 10번

지방직 대비 실전모의고사 8회 15번

10. 빈칸 (가), (나)에 들어갈 내용으로 옳은 것은?

중앙은행의 기준 금리 인상 정책은 다음 경로를 통해 환율에 영향을 준다. 기준 금리를 인상하면 국내로 유입되는 외국 자본의 투자 유인이 증대되므로 외화의 순수입액이 (가) 하고, 이로 인해 환율은 (나) 한다.

(가)                      (나)

① 증가                      상승

② 증가                      불변

③ 증가                      하락

④ 감소                      상승

문 19. 2017년 A국의 경상 거래 전부가 다음과 같을 때, A국의 국제수지에 대한 설명으로 옳은 것은? (단, 2016년 A국의 경상 수지는 0이며, 모든 연도의 오차 및 누락은 0이다)

- A국 기업의 상품 수출 20억 달러
- A국 국민의 해외 직접 투자를 통한 배당 소득 50억 달러 수취
- A국 기업이 사용한 해외 저작권 사용료 50억 달러 지급
- B국 국민이 A국 여행에 150억 달러 지출
- C국의 지진 피해에 대한 응급 복구 비용 100억 달러 지원
- D국 기업으로부터 원자재 수입 30억 달러

- ① 서비스 수지는 음(-) 값을 갖는다.
- ② 본원 소득 수지와 이전 소득 수지의 합은 0이다.
- ③ 상품 수지는 2016년 대비 10억 달러 감소하였다.
- ④ 자본·금융 계정은 2016년 대비 40억 달러 감소하였다.

문제분석

A국 기업의 상품 수출 20억 달러	상품수지 +20
A국 국민의 해외 직접 투자를 통한 배당 소득 50억 달러 수취	본원소득수지 +50
A국 기업이 사용한 해외 저작권 사용료 50억 달러 지급	서비스수지 -50
B국 국민이 A국 여행에 150억 달러 지출	서비스수지 +150
C국의 지진 피해에 대한 응급 복구비용 100억 달러 지원	이전소득수지 -100
D국 기업으로부터 원자재 수입 30억 달러	상품수지 -30

정답찾기

- ④ 2017년의 경상수지는 40억 달러이다. 오차 및 누락이 0이므로 경상수지와 자본 금융계정의 합은 0이 되어야 한다. 따라서 자본·금융계정은 -40억 달러이다. 2016년의 자본·금융계정은 0이므로 2016년 대비 자본·금융계정은 40억 달러 감소하였다.

오답찾기

- ① 서비스 수지는 +100이다.
- ② 본원소득수지 +50과 이전소득수지 -100의 합은 -50이다.
- ③ 2016년의 상품수지를 알 수 없다.

정답 ④

적중 : 경제클리닉 5단원 4번

4. 우리나라의 국제 수지표 중 일부를 나타낸다. 이에 대한 설명으로 옳은 것은?

구분	수취	지급
수지	㉠	
서비스 수지		㉡
본원 소득 수지	㉢	㉣
⋮	⋮	⋮
자본 수지	㉤	

① 외국인 관광객이 우리나라에서 지출한 여행 경비는 ㉠에 포함된다.

② 국내 기업이 해외에서 상표권을 사들이는 경우 ㉡이 증가한다.

③ 외국 주식을 보유한 우리나라 국민이 받은 배당금은 ㉢에 포함된다.

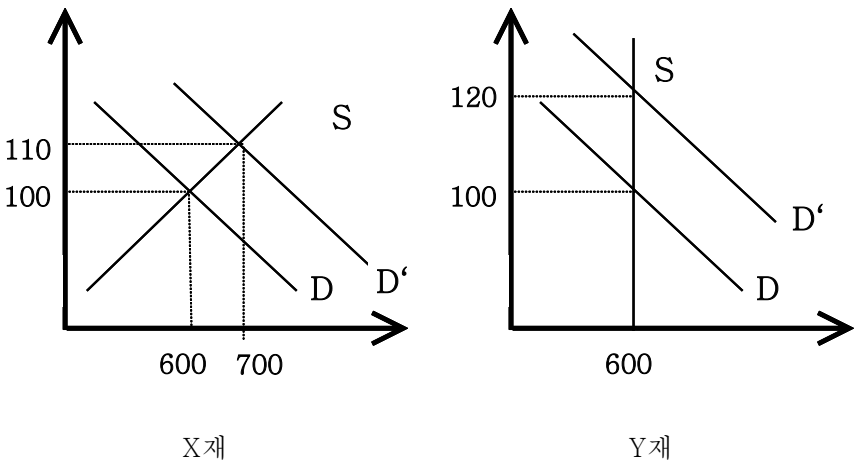
④ ㉢과 달리 ㉤의 증가는 우리나라 경상 수지의 증가 요인이다.

문 20. 다음은 X재와 Y재 시장에서 각 재화의 가격에 대한 수요량과 공급량을 나타낸 것이다. 두 재화의 주어진 가격 하에서 X재와 Y재의 수요량이 각각 200개 증가할 때, 각 재화 시장에 일어나는 균형 변화에 대한 설명으로 옳은 것은?

가격(원)		80	90	100	110	120
재화(개)	수요량	800	700	600	500	400
	공급량	400	500	600	700	800
Y재	수요량	800	700	600	500	400
	공급량	600	600	600	600	600

- ① 각 재화의 균형 가격 상승률과 판매 수입 증가율은 동일하다.
- ② Y재의 판매 수입이 X재의 판매 수입보다 많아진다.
- ③ X재와 달리 Y재의 균형 거래량은 증가한다.
- ④ Y재의 균형 가격이 X재의 균형 가격보다 높아진다.

X재의 경우 수요법칙과 공급법칙이 적용되고, Y재의 경우 공급곡선이 완전 비탄력적인 경우에서의 시장 균형의 이동에 관한 문제이다.



- 정답찾기
- ④ Y재의 균형 가격이 120으로 X재의 균형가격 110보다 높아진다.
- 오답찾기
- ① Y재의 경우 공급곡선이 완전 비탄력적이므로 균형 가격 상승률과 판매 수입 증가율이 동일하다. 하지만 X재의 경우 동일하지 않다.
- ② Y재의 판매수입은  $120 \times 600 = 72000$ 이고 X재의 판매수입은  $110 \times 700 = 77000$ 이다. 따라서 X재의 판매수입이 더 많아진다.
- ③ X재의 균형거래량은 600에서 700으로 증가하고 Y재의 균형거래량은 600으로 일정하다.

정답 ④

적중 : 매모사 2월 12회 12번

문 12. 표는 X재 시장의 주요 가격에 따른 수요량과 공급량을 나타낸 것이다. 이에 대한 분석으로 옳은 것은? (단, X재의 수요 곡선과 공급 곡선은 직선이다.)

가격(만 원)	1	2	3	4	5	6	7
수요량(개)	60	50	40	30	20	10	0
공급량(개)	0	10	20	30	40	50	60

① 3만 원이 최고 가격으로 설정되면 판매 수입은 120만 원이다.

② 모든 가격 수준에서 공급량이 20개씩 증가하면 판매 수입이 증가한다.

③ 모든 가격 수준에서 공급량이 10개씩 감소하면 균형 가격은 5만 원이 된다.

④ 균형 가격에서 거래되면 5만 원 지불 용의가 있는 소비자에게 잉여가 발생한다.

적중 : 국가직 대비 실전모의고사 9회 12번

문 12. 표는 뮤지컬 공연의 관람권에 대한 수요 및 공급을 보여 준다. 이에 대한 설명으로 옳은 것은? (단, 뮤지컬 공연과 연극 공연은 대체재 관계가 있는 것으로 간주한다.)

관람권 가격(만 원)	수요량(백 개)	공급량(백 개)
1	10	5
2	8	5
3	6	5
4	5	5
5	4	5

① 관람권의 공급 곡선은 수평선이다.

② 관람권의 균형 가격은 5만 원이다.

③ 관람권 가격이 낮게 책정될수록 관람권의 거래량은 증가한다.

④ 시설을 확장하여 좌석 수를 1백 개 더 늘리면 관람권의 균형 가격은 3만 원이 된다.