

회

정 답

1	2	3	4	5	6	7	8	9	10
2	4	3	1	1	2	4	3	3	2
11	12	13	14	15	16	17	18	19	20
4	4	3	4	2	3	1	1	2	3


출제 문항 분석

문항	영역	주제
1	사회 문화	자연현상과 사회문화현상의 비교
2	사회 문화	문화를 대하는 태도
3	사회 문화	사회실재론
4	사회 문화	낙인이론
5	사회 문화	사회보장제도
6	사회 문화	사회화
7	경 제	최고가가격제
8	경 제	이윤극대화
9	경 제	시장의 균형과 잉여
10	경 제	경제안정화 정책
11	경 제	실질이자율
12	경 제	GDP관련 개념
13	법과 정치	국제사회 행위주체
14	법과 정치	정부형태
15	법과 정치	선거제도
16	법과 정치	미성년자의 불법행위
17	법과 정치	대의 민주주의
18	법과 정치	헌법재판소
19	법과 정치	형법
20	법과 정치	상호 견제 관계

출제 경향 및 학습 대책

2018년 교육행정직 공무원 채용시험에서는 사회문화가 6문제, 경제가 6문제, 법과 정치가 8문제가 출제되었습니다. 작년보다 경제가 한 문제 늘고 법과 정치가 한 문제 줄었습니다. 문제의 난이도는 중 정도였습니다. 문제가 지방직에 비해 긴 편이어서 하나하나 다 읽을 경우 시간의 압박을 받을 수 있었습니다. 하지만 문제가 무엇을 묻는지를 빠르게 인지하고 유형대로 풀어낸다면 시간을 단축할 수 있었을 것입니다. 평가원에서 출제할 경우 정형화된 수능식의 문제를 출제합니다. 따라서 지문이 길더라도 당황하지 말고 빠르게 핵심주제를 잡아내는 연습을 하여야 합니다. 한 달여 남은 서울시 역시 평가원에서 출제하므로 이 유형대로 출제되어집니다. 꾸준히 매모사를 풀이하면서 빠르게 핵심잡는 연습을 하시는 것이 서울시 고득점의 비결일 것입니다.

1. 친 ㉠, ㉡과 같은 현상의 일반적인 특징에 대한 설명으로 옳은 것은?



- ① ㉠과 같은 현상은 인간의 가치나 신념이 반영되어있다.
- ② ㉡과 같은 현상은 보편성과 특수성이 공존한다.
- ③ ㉠과 같은 현상은 ㉡과 같은 현상과 달리 당위 법칙을 따른다.
- ④ ㉡과 같은 현상은 ㉠과 같은 현상과 달리 동일한 조건에서는 동일한 결과가 나타난다.

㉠은 자연현상이고 ㉡은 사회 문화 현상이다.

정답찾기

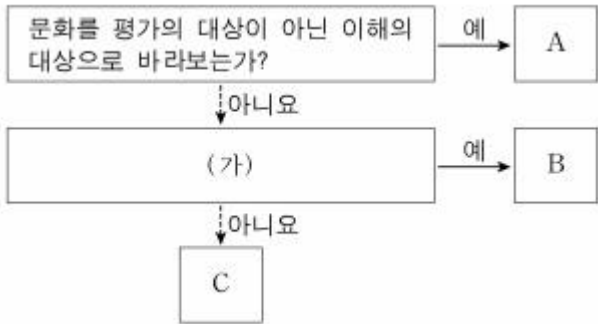
② ㉡ 사회·문화 현상은 보편성과 특수성이 공존한다.

오답찾기

- ① ㉠ 자연현상은 물가치적이다.
- ③ 자연현상은 존재법칙, 사회·문화 현상은 당위법칙을 따른다.
- ④ 사회·문화 현상이 아니라 자연현상이 동일한 조건에서는 동일한 결과가 나타난다.

정답 ②

2. 그림은 문화를 대하는 태도 A~C를 구분한 것이다. 이에 대한 설명으로 옳은 것은? (단, A~C는 각각 문화상대주의, 자문화 중심주의, 문화 사대주의 중 하나이다.)



- ① A는 B, C와 달리 문화 간 우열이 존재한다고 본다.
- ② B가 자문화 중심주의라면 (가)는 ‘자기 문화의 가치를 과소 평가하는가?’가 적절하다.
- ③ (가)가 ‘선진 문물의 수용에 적극적인가?’라면 C는 문화 사대주의에 해당한다.
- ④ (가)가 ‘자기 문화의 정체성을 약화시킬 우려가 큰가?’라면 B는 문화 사대주의, C는 자문화 중심주의에 해당한다.

A 문화 상대주의, B, C는 (가)에 따라 달라진다.

정답찾기

④ (가)가 ‘자기 문화의 정체성을 약화시킬 우려가 큰가?’라면 B는 문화 상대주의, C는 자문화 중심주의에 해당한다.

오답찾기

- ① 문화절대주의인 문화 상대주의와 자문화 중심주의가 문화 간 우열이 있다고 본다.
- ② 자기 문화의 가치를 과소평가하는가? 가 (가)에 들어간다면 예라고 답하는 B에는 문화상대주의가 들어가야 한다.
- ③ (가)가 ‘선진 문물의 수용에 적극적인가?’라면 B는 문화 상대주의, C에 자문화 중심주의에 해당한다.

정답 ④

3. 다음 글에 나타난 개인과 사회의 관계를 바라보는 관점에 부합하는 진술로 가장 적절한 것은?

사회는 생물학적 실체라고 할 수 있는 개인들을 초월하여 존재한다. 개인은 죽고 구성원은 계속 달라지지만, 사회는 오랫동안 존속한다. 또한 사회는 강제성도 가지고 있어 개인의 의지와 상관없이 사회규범을 개인에게 강요한다.

- ① 사회는 개인의 목적을 위한 수단에 불과하다.
- ② 사회는 개인의 자율적인 의지에 의해 형성된다.
- ③ 사회는 개인의 속성과 구분되는 고유한 속성을 가진다.
- ④ 사회문제의 원인은 개인의 잘못된 의식에 있다.

문제분석

제시문은 사회실재론에 해당한다.

정답찾기

③ 사회실재론은 사회는 개인의 속성과 구분되는 고유한 속성을 가진다고 본다.

오답찾기

① , ②, ④은 사회명목론에 대한 선지이다.

정답 ③

4. 다음 글에 나타난 일탈 이론에 부합하는 진술로 옳은 것은?

우발적 범죄 행위로 실형을 선고 받고 복역한사람이 형을 마치고 나오더라도 사회는 그를 잠재적 범죄자로 바라본다. 그는 그러한 사회적 편견으로 인해 사회생활이 어렵게 되고, 자신을 일탈자라고 인정하게 되면서 다시 범죄를 저지르 가능성이 높아진다.

- ① 일탈 행동에 대한 사회적 반응이 후속 일탈 행동에 중대한 영향을 미친다.
- ② 일탈 행동은 문화적 목표와 제도적 수단 간의 불일치로 인하여 나타난다.
- ③ 일탈 행동은 지배적인 규범과 질서가 무너지고 새로운 가치관이 정립되지 않은 상태에서 나타난다.
- ④ 일탈자와의 접촉을 차단하거나 정상적인 사회 집단과 교류하도록 함으로써 일탈 행동을 방지할 수 있다.

문제분석

일탈이론 중 낙인이론에 해당한다.

정답찾기

① 낙인이론에서는 일탈 행동에 대한 부정적 사회적 반응으로 부정적 자아가 형성되어 후속 일탈 행동에 중대한 영향을 미친다고 본다.

오답찾기

- ② 머튼의 아노미에서 일탈 행동은 문화적 목표와 제도적 수단 간의 불일치로 인하여 나타난다고 본다.
- ③ 뒤르캤의 아노미에서 일탈 행동은 지배적인 규범과 질서가 무너지고 새로운 가치관이 정립되지 않은 상태에서 나타난다고 본다.
- ④ 차별적 교제이론에서 일탈자와의 접촉을 차단하거나 정상적인 사회 집단과 교류하도록 함으로써 일탈 행동을 방지할 수 있다고 본다.

정답 ①

5. (가)와 (나)는 각각 공공부조와 사회보험 중 하나이다. 이에 대한 설명으로 옳은 것은?

(가) 국민에게 발생하는 사회적 위험에 대비함으로써 국민의 건강과 소득을 보장하는 제도이다. 여기서 사회적 위험이란 질병, 장애, 노령, 실업, 사망 등을 의미한다.
(나) 생활을 유지할 능력이 없거나 생활이 어려운 국민의 최저 생활을 국가가 보장하고 자립을 지원하는 제도를 말한다.

- ① (가)는 상호부조적인 성격을 지닌다.
- ② (나)는 수혜자 부담을 원칙으로 한다.
- ③ (가)는 (나)와 달리 비금전적 지원을 원칙으로 한다.
- ④ (나)는 (가)보다 수혜자의 범위가 넓다.

문제분석

(가)는 사회보험, (나)는 공공부조에 해당한다.

정답찾기

① 사회보험은 소득에 따라 보험료를 내고 동일한 혜택을 누리므로 상호부조적인 성격을 지닌다.

오답찾기

- ② 사회보험이 수혜자 부담을 원칙으로 한다.
- ③ 사회보험과 공공부조 모두 금전적 지원이 원칙이다.
- ④ 공공부조가 사회보험보다 선별적이므로 수혜자의 범위가 좁다.

정답 ①

6. 친 ㉠~㉣에 대한 설명으로 옳은 것은?

영희는 ㉠가족 모두가 힘겹게 생계를 꾸려가야 하는 가난한 집안에서 태어났다. ㉡아버지의 성실함을 물려받은 영희는 ㉢학교에서도 학업에 열중하며 노력한 끝에 공무원 시험에 합격하여 현재 ㉣시청에서 근무하고 있다.

- ① ㉠은 2차 집단이다.
- ② ㉡은 성취 지위이다.
- ③ ㉢은 비공식적 사회화 기관이다.
- ④ ㉣은 비공식 조직이다.

지위와 사회화기관에 관한 문제이다.

정답찾기

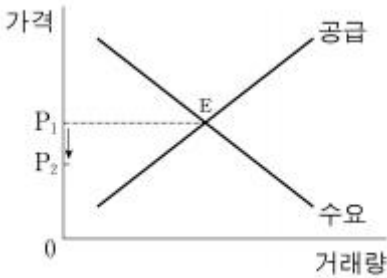
② ㉡ 아버지는 성취 지위이다.

오답찾기

- ① ㉠ 가족은 1차 집단이다.
- ③ ㉢ 학교는 공식적 사회화 기관이다.
- ④ ㉣ 시청은 공식 조직이다.

정답 ②

7. 그림은 X재의 시장 상황을 나타내고 있다. 정부는 X재의 가격을 균형가격인 P1보다 낮은 P2 이하로 규제하는 정책을 실시하고자 한다. 이 정책이 효과적으로 작동할 때, 이에 대한 분석으로 옳은 것은?



- ① 정부가 실시하고자 하는 정책은 가격하한제이다.
- ② X재 생산자의 편익을 증가시키기 위한 정책이다.
- ③ X재의 초과 공급이 발생할 것이다.
- ④ X재 시장의 자원 배분 효율성이 낮아질 것이다.

문제분석

가격상한제(최고가가격제)에 대한 문제이다.

정답찾기

④ 최고가격제가 시행되면 E점에서 보다 거래량이 줄어들고 사회적 잉여도 감소함으로 X재 시장의 자원 배분 효율성이 낮아질 것이다.

오답찾기

- ① 정부가 실시하고자 하는 정책은 균형가격보다 낮은 가격으로 효과적으로 실시하고자 함으로 가격상한제이다.
- ② 가격상한제(최고가가격제)는 X재 소비자의 편익을 증가시키기 위한 정책이다.
- ③ 가격상한제(최고가가격제)에서는 X재의 초과 수요가 발생할 것이다.

정답 ④

8. ㉠~㉣에 들어갈 내용으로 옳은 것은?

이윤 극대화를 목표로 하는 기업은 (㉠)과 (㉡)의 차이를 최대화 하고자 한다. 이때 기업은 합리적인 선택을 위해서는 (㉢)을 고려하면 안 된다.

	㉠	㉡	㉢
①	평균수입	평균비용	암묵적 비용
②	평균수입	평균비용	경제적 비용
③	총수입	총비용	매몰 비용
④	총수입	총비용	기회비용

문제분석

기업의 이윤극대화를 위한 선택에 관한 문제이다.

정답찾기

③ 총수입에서 총비용을 뺀 것이 이윤이므로 이윤극대화를 목표로 하는 기업은 ㉠ 총수입에서 ㉡ 총비용의 차이를 최대화 하고자 한다. 그리고 기업은 합리적 선택을 위해서는 회수할 수 없는 돈인 ㉢ 매몰 비용을 고려해서는 안 된다.

정답 ③

9. 표는 X재 1개에 대한 소비자와 생산자 각각의 최대 지불 용의 금액과 최소 요구 금액을 나타낸 것이다. 이 상황에서 정부가 X재 1개당 2,000원의 소비세를 부과하자 소비자들이 지불하는 가격이 9,000원으로 상승하고 생산자들이 받는 가격은 7,000원으로 하락하였다. 이에 대한 분석으로 옳지 않은 것은? (단, 소비자와 생산자는 X재를 각각 1개씩만 소비하고 생산하며, 조세의 행정 비용은 없다.)

소비자	최대 지불 용의 금액	생산자	최소 요구 금액
갑	10,000원	가	6,000원
을	9,000원	나	7,000원
병	8,000원	다	8,000원

- ① 소비세 부과 전 X재의 거래량은 3개이다.
- ② 소비세 부과 전 총생산자 잉여는 3,000원이다.
- ③ 소비세 부과에 따른 총소비자 잉여 감소액은 1,000원이다.
- ④ 소비세 부과로 얻는 정부의 조세 수입은 4,000원이다.

문제분석

가격이 8000원이라고 가정하면 소비자 갑, 을, 병은 최대 지불 용의 금액과 일치하거나 아래이므로 구매할 것이고, 생산자 가, 나, 다는 최소 요구 금액보다 일치하거나 크므로 생산할 것이다. 따라서 가격이 8000원일 때 거래량은 3개가 된다.

하지만 정부가 X재 1개당 2000원의 소비세를 부과하면 소비자들의 최고 지불용의 금액이 2000원 만큼 하락하므로 7000원에서 거래량이 2개로 새로운 균형이 만들어 진다.

소비자	소비세 부과 후 최대 지불 용의 금액	생산자	최소 요구 금액
갑	8,000원	가	6,000원
을	7,000원	나	7,000원
병	6,000원	다	8,000원

소비세 부과 전 총 소비자잉여는 값이 10000만원 낼 용의가 있었는데 8000원이므로 2000원 을이 9000원 낼 용의가 있었는데 8000원 이니까 1000원, 병은 8000원 낼 용의가 있었는데 8000원 냈으니까 잉여는 0원이다. 따라서 3000원이 사회적 잉여이다. 하지만 소비세 부과 후에는 값이 8000원 낼 용의가 있었는데 7000원이 가격이니 까 1000만큼만 소비자 잉여가 생겼다. 을을 소비자 잉여가 없으므로 사회적 잉여는 1000원이다. 따라서 소비세 부과에 따른 총 소비자잉 여 감소액은 2000원이다.

오답찾기

- ① 소비세 부과 전 X재의 거래량은 3개이다.
- ② 소비세 부과 전 총생산자 잉여는 가의 경우 최소 요구 금액이 6000 원이었으나 8000원을 받았으니 2000원, 나 의 경우는 1000원 따라 서 3000원이 총생산자 잉여이다.
- ④ 정부는 개당 2000원의 소비세를 부과하였고 거래가 2개 이루어졌으 므로 4000원의 조세 수입을 거두었다.

정답 ③

10. 갑과 을은 현재의 경기 상황에 대해 각자 다른 의견을 제시하고 있 다. 갑과 을의 의견에 대한 분석 및 추론으로 가장 적절한 것 은? (단, 다른 조건은 일정하다.)

갑 : 무역흑자의 누적과 소비 지출의 증가로 인해 물가가 빠르게 상승하고 있어 이에 대한 대책이 필요한 상황입 니다.
을 : 물가의 상승은 국제 유가의 급등에 의한 일시적인 것 이므로 기업의 투자를 활성화시켜 지속적인 경기회복세 를 유지해야 합니다.

- ① 갑은 소득세를 인하 정책을 지지할 것이다.
- ② 갑은 재할인을 인상 정책을 지지할 것이다.
- ③ 을은 법인세를 인상 정책을 지지할 것이다.
- ④ 을은 국채 매각 정책을 지지할 것이다.

문제분석

갑은 경기상황을 호황기로 판단하고 있고, 을은 불경기로 보고 있다.

정답찾기

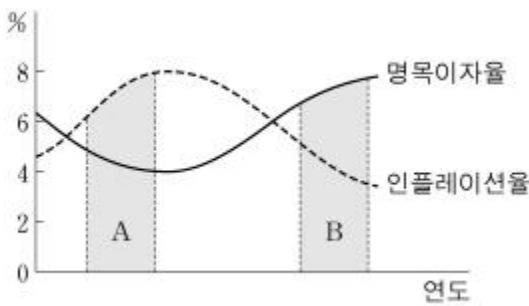
- ② 재할인을 인상 정책은 긴축통화정책으로 호황기로 판단하고 있는 갑 은 지지할 것이다.

오답찾기

- ① 소득세를 인하 정책은 적자재정정책으로 갑은 반대할 것이다.
- ③ 법인세를 인상 정책은 흑자재정정책이므로 불경기로 판단하고 있는 을은 반대할 것이다.
- ④ 국채 매각 정책은 긴축통화정책이므로 불경기로 판단하는 을은 반대 할 것이다.

정답 ②

11. 그림에서 A 구간에 비해 B 구간에서 나타날 수있는 상황에 대한 분석 및 추론으로 가장 적절한 것은? (단, 다른 조건은 일정하 다.)



- ① 실질이자율이 낮아질 것이다.
- ② 주택담보대출 수요가 증가할 것이다.
- ③ 기업의 설비투자 규모가 증가할 것이다.
- ④ 가계의 예금 대비 현금 보유 비율이 감소할 것이다.

문제분석

실질이자율 = 명목이자율 - 물가상승률이다. A구간은 실질이자율이 음 (-)의 값이 나오고 B구간에서는 양(+)의 값이 나온다.

정답찾기

- ④ 실질이자율이 양의 값을 가지면 예금의 실질구매력이 증가하므로 예 금 대비 현금 보유 비율을 감소할 것이다.

오답찾기

- ① 실질이자율이 높아질 것이다.
- ② 이자 부담으로 인해 주택담보대출 수요가 감소할 것이다.
- ③ 이자가 상승하면 설비투자 규모가 감소할 것이다.

정답 ④

12. 표는 A국의 경제 상황을 나타낸 것이다. 2012년 대비 2014년의 실질 GDP 증가율은? (GDP 디플레이터는 명목 GDP를 실질 GDP로 나누어 100을 곱한 값이며, 기준 연도는 2010년이다.)

연도	명목 GDP(조원)	GDP 디플레이터
2012	1,260	105
2014	1,650	110

- ① 10%
- ② 15%
- ③ 20%
- ④ 25%

문제분석

GDP 디플레이터 = (명목 GDP / 실질 GDP)×100이므로 아래와 같이 실질 GDP를 구할 수 있다.

연도	실질 GDP(조원)	명목 GDP(조원)	GDP 디플레이터
2012	1,200	1,260	105
2014	1,500	1,650	110

정답찾기

- ④ 실질 GDP가 1,200에서 1,500으로 증가하였으므로 실질 GDP증가율 은 25%이다.

정답 ④

13. 사회 행위 주체 (가)~(다)의 예를 바르게 연결한 것은?

- (가) 국경을 넘어 활동하는 비정부 국제기구
- (나) 국제 규범을 정립함으로써 국제적 영향력을 행사하는 정부 간 국제기구
- (다) 주권을 갖는 독립적 행위 주체로서 국제 사회의 가장 기본적인 정치 단위

- | | (가) | (나) | (다) |
|---|-----------|-----------|-------|
| ① | 국제 엠네스티 | 그린피스 | 국제 연합 |
| ② | 국경 없는 의사회 | 세계 무역 기구 | 국제 연합 |
| ③ | 그린피스 | 국제 연합 | 프랑스 |
| ④ | 세계 무역 기구 | 국경 없는 의사회 | 캐나다 |

국제 사회 행위 주체와 국제기구의 분류에 관한 문제이다. (가) 국경을 넘어 활동하는 비정부 국제기구는 국제엠네스티, 그린피스, 국경 없는 의사회이며, (나) 국제 규범을 정립함으로써 국제적 영향력을 행사하는 정부 간 국제기구는 국제연합, 세계 무역 기구이다. (다) 주권을 갖는 독립적 행위 주체로서 국제 사회의 가장 기본적인 정치 단위는 국가이므로 프랑스와 캐나다이다.

정답찾기

③ (가) 그린피스는 초국가적 행위체이고, (나) 국제 연합은 정부 간 국제기구이며 (다) 프랑스는 국가이므로 바르게 연결되었다.

정답 ③

14. 갑국과 을국의 정부 형태에 대한 분석 및 추론으로가장 적절한 것은?

- 갑국에서 대통령은 국가의 원수이자 행정부의 수반이다. 행정부는 의회에 책임을 지지 않지만 법안 제출권을 갖고 있고 의회 해산권도 갖고 있다. 의원은 장관을 겸직할 수 있다.
- 을국에서는 선거를 통해 명목적인 국가원수로서 4년 임기의 대통령을 선출한다. 의회 내 최다다수 정당 또는 정당 연합의 대표가 행정부의 수반인 수상이 되어 내각을 구성한다. 의회는 내각에 대해 불신임권을, 내각은 의회 해산권을 각각 갖고 있다.

- ① 갑국에서는 의회가 내각을 불신임할 수 있다.
- ② 갑국의 정부 형태는 전형적인 대통령제에 해당한다.
- ③ 을국의 정부 형태는 의원 내각제보다는 대통령제에가깝다.
- ④ 을국의 의회가 갑국의 의회보다 행정부에 대한견제 권한이 강하다.

문제분석

(가)는 대통령제를 기본으로 하면서 의원내각제의 요소가 많이 포함된 정부형태이고, (나)는 독일의 의원내각제와 유사한 정부형태에 해당한다.

정답찾기

④ 을국은 의원내각제로서 내각불신임권이 있으므로 우리나라보다 행정부에 대한 견제 권한이 강하다.

오답찾기

- ① 갑국에서는 의회가 내각을 불신임할 수 없다.
- ② 갑국의 정부 형태는 대통령제를 기본으로 하면서 의원내각제의 요소가 포함된 형태이다.
- ③ 을국은 의원내각제에 해당한다. 형식적으로 대통령은 존재하지만 실질적인 권한이 수상에게 있는 의원내각제이다.

정답 ④

15. 갑국의 의회 선거제도에 대한 분석 및 추론으로 가장 적절한 것은?

- 갑국 의회의 정원은 100명이다. 이 중 50명은 인구와 산업 등의 기준으로划정한 50개의 지역구에서 선출한다. 나머지 50명에 대해서는 전국을 하나의 선거구로 하여 각 정당이 획득한 득표율에 비례하여 당선자를 결정한다. 즉 갑국 유권자는 1인당 2표를 행사하는데, 1표는 지역구에 출마한 후보자에게, 나머지 1표는 전국 단위 선거에 후보자명부를 제출한 정당에 투표하는 것이다. 한편, 선거구 평균 면적은 도시 지역이 농어촌 지역보다 작지만 선거구 평균 인구수는 도시 지역이 농어촌 지역보다 약 3배 많다.

- ① 지역구 선거에서 표의 등가성이 보장되고 있다.
- ② 전국 단위 정당투표에서보다 지역구 선거에서 사표가발생할 가능성이 크다.
- ③ 지역구 선거보다 전국 단위 정당투표를 통한 대표선출방식이 군소정당에 불리하다.
- ④ 전국 단위 정당투표 선출 의원 수를 늘린다면 의석획득 정당 수가 현재보다 줄어들 가능성이 크다.

문제분석

갑국의 지역구는 50명을 소선거구제 다수대표제로 선출하고 나머지 50명은 정당명부식 비례대표제로 선출한다.

정답찾기

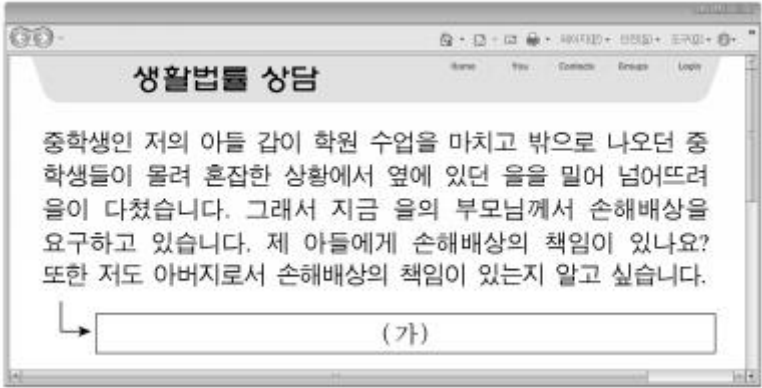
② 소선거구제 다수대표제가 비례대표제보다 사표가능성이 크다.

오답찾기

- ① 지역구 선거에서 선거구 평균 면적은 도시 지역이 농어촌 지역보다 작지만 선거구 평균 인구수가 도시 지역이 농어촌 지역보다 3배 많으므로 선거구 인구편차가 1:2를 넘어가고 있으므로 표의 등가성이 보장되지 못한다.
- ③ 비례대표제가 다수대표제보다 군소정당의 의회진출에 유리하다.
- ④ 전국 단위 정당투표 선출 의원 수를 늘린다면 군소 정당의 의회 진출이 유리하므로 의석획득 정당 수가 현재보다 늘어날 가능성이 크다.

정답 ②

16. (가)에 들어갈 적절한 법적 조언을 보기에서 고른 것은?



- <보기>
- ㄱ. 갑은 미성년자이기 때문에 불법행위에 대한 책임능력이 인정되지 않습니다.
 - ㄴ. 갑에게 고의 및 과실이 없다면 갑은 물론 아버님도 손해배상의 책임을 지지 않습니다.
 - ㄷ. 갑의 책임능력이 인정되지 않더라도 아버님께서는 손해배상의 책임을 질 수 있습니다.
 - ㄹ. 갑의 행위가 위법성이 조각되는 경우에도 아버님께서는 손해배상의 책임을 질 수 있습니다.

- ① ㄱ, ㄷ ② ㄱ, ㄹ ③ ㄴ, ㄷ ④ ㄴ, ㄹ

중학생의 경우 법원에서 손해배상에 있어서 책임능력을 판단한다. 중학생의 경우 책임능력이 없다고 판단되면 부모는 책임무능력자의 감독자책임으로 특수한 불법행위를 질 수 있고, 책임능력이 있다고 판단되면 중학생과 부모 모두 일반불법행위에 대한 책임을 질 수 있다.

정답찾기

- ㄴ. 갑에게 고의 및 과실이 없다면 불법행위가 성립하지 않으므로 갑은 물론 아버님도 손해배상의 책임을 지지 않는다.
- ㄷ. 갑의 책임능력이 없다고 판단되면 부모는 책임무능력자의 감독자책임으로 특수한 불법행위로 인해 손해배상의 책임을 질 수 있다.

오답찾기

- ㄱ. 갑은 미성년자이지만 불법행위에 대한 책임은 14세~15세의 경우 법원의 판단에 따른다. 따라서 책임능력이 인정될 수 있다.
- ㄹ. 갑의 행위가 위법성이 조각되면 불법행위가 성립하지 아니하므로 아버님의 경우 손해배상의 책임을 지지 않는다.

정답 ③

17. 밑줄 친 ㉠~㉣에 대한 설명으로 옳지 않은 것은?

현대 민주주의에서 국민은 선거를 통해 대표자를 선출하여 한시적으로 자신을 대신하여 통치할 권한을 위임함으로써 민주 정치의 자기 지배 원리를 구현한다. 국민은 주권자로서 ㉠ 일정한 연령 요건을 충족하면 누구나 선거권을 행사할 수있을 뿐만 아니라, ㉡ 일정한 연령과 거주요건을 충족하면 자신이 직접 대표자가 될 수도 있다. 즉 현대 민주주의는 ㉢ 선거를 통해 대표자에게 통치권을 위임할 수 있기 때문에 ㉣ 피지배자에 의한 통치 체제로 볼 수 있다.

- ① ㉠은 평등 선거를 의미한다.
- ② ㉡은 공무담임권에 해당한다.
- ③ ㉢은 대표자에게 권력의 정당성을 부여하는 과정이다.
- ④ ㉣은 대의 민주 정치에서 주권자의 자기 지배를 의미한다.

문제분석

대의 민주주의에 대한 자기지배의 문제이다.

정답찾기

- ① ㉠은 보통 선거를 의미한다. 평등선거는 표의 가치의 등가성에 대한 개념이다.

오답찾기

- ②, ③, ④ 맞는 선지이다.

정답 ①

18. (가)~(라)에 대한 옳은 설명을 보기에서 고른 것은?

- 갑은 국회의사당 경계 지점으로부터 1백 미터 이내에서 옥외 집회를 개최한 혐의로 형사 재판을 받고 있다. 갑은 재판의 전제가 되는 법률이 집회 및 시위를 과도하게 금지함으로써 (가) 원칙을 위반하여 (나) 을/를 침해한다면서 법률의 위헌 여부를 다투는 (다) 을/를 법원에 신청하였다.
- 을은 징역 6월에 집행유예 2년을 선고받아 형이 확정되었다. 을은 이후 실시된 국회의원 선거에서 집행유예기간 중인 사람에게 선거권을 제한하는 공직선거법에 따라 선거를 하지 못하였다. 을은 선거권의 침해를 이유로 헌법재판소에 (라) 을/를 청구하였다.

- <보기>
- ㄱ. (가)원칙은 목적의 정당성, 방법의 적절성, 피해의 최소성, 법익의 균형성이 모두 충족될 것을 요구한다.
 - ㄴ. (나)는 가장 오래된 기본권으로서 국가를 전제로 하는 수단적, 능동적 기본권의 유형에 속한다.
 - ㄷ. (다)는 당사자의 신청 없이 법원이 직권으로 할 수 있다.
 - ㄹ. (라)의 청구는 (다)의 신청이 기각된 것을 전제로 한다.

- ① ㄱ, ㄷ ② ㄱ, ㄹ ③ ㄴ, ㄷ ④ ㄴ, ㄹ

문제분석

갑은 법원에 위헌법률심판 제청을 법원에 신청한 것이고, 을은 권리구제형 헌법소원을 청구한 것이다. (가)는 과잉금지의 원칙이고, (나)는 집회결사의 자유 즉 자유권이며 (다)는 위헌법률심판 제청, (라)는 권리구제형 헌법소원이다.

정답찾기

- ㄱ. (가) 과잉금지의 원칙은 목적의 정당성, 방법의 적절성, 피해의 최소성, 법익의 균형성이 모두 충족될 것을 요구한다.
- ㄷ. (다)위헌법률심판 제청은 당사자의 신청없이 법원의 직권으로 가능하다.

오답찾기

- ㄴ. (나) 자유권은 가장 오래된 기본권으로서 소극적, 방어적 기본권의 유형에 속한다.
- ㄹ. 권리구제형 헌법소원은 위헌법률심판 제청 신청이 기각된 것을 전제로 하지 않는다.

정답 ①

19. 대한 법적 판단으로 옳은 것은?

회사원 갑은 한 시민을 무자비하게 폭행한 뒤 도주하고 있는 을(17세)을 추격하여 붙잡은 뒤 신고를 받고 출동한 사법경찰관 병에게 인계하였다. 병은 을을 폭행죄로 조사하고 있다.

- 정(30세)은 사기죄로 구속되어 공소 제기되었으며 제1심 재판에서 징역 1년에 집행유예 3년을 선고받은 후 항소하였다.

- ① 갑이 을을 붙잡은 행위는 정당방위에 해당한다.
- ② 을은 체포의 적법성에 대한 심사를 법원에 청구할 수 있다.
- ③ 병은 을의 사건을 가정법원 소년부에 직접 송치할 수 있다.
- ④ 정은 항소심에서 구속 적부 심사를 청구할 수 있다.

갑이 을을 체포한 것은 정당행위이고, 정은 집행유예 후 항소중이다.

정답찾기

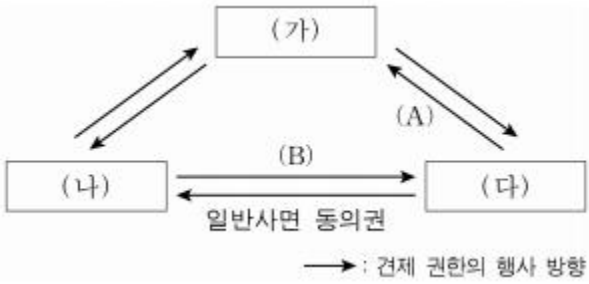
② 체포적부심은 수사기관의 체포가 부당하거나 체포할 필요까지는 없다고 생각될 경우 법원에 석방해줄 것을 요구하는 것으로서 체포영장으로 구금되거나 현행범으로 붙잡힌 경우, 긴급체포된 경우, 그리고 불법체포 됐을 때도 청구할 수 있다. 따라서 을은 체포적부심을 청구할 수 있다.

오답찾기

- ① 갑이 을을 붙잡은 행위는 현행범을 체포한 것이므로 정당행위에 해당한다.
- ③ 병은 범죄소년인 을의 사건을 가정법원 소년부에 직접 송치할 수 없고 검사가 송치할 수 있다.
- ④ 정은 집행유예로 석방된 상태로 있고, 기소된 후이므로 구속적부심을 청구 할 수 없다.

정답 ②

20. 그림은 (가)~(다)의 권한 및 상호 간의 견제 관계를 나타낸 것이다. 이에 대한 옳은 설명을 <보기> 에서고른 것은? (단, (가)~(다)는 각각 국회, 대통령, 법원 중의 하나이다.)



<보기>

- ㄱ. (가)는 (나)의 제소로 위헌 정당 해산 심판을 할 수 있다.
- ㄴ. (나)는 (다)의 동의를 얻어 헌법재판소장을 임명할 수 있다.
- ㄷ. 탄핵 소추권은 (A)에 들어갈 수 있다.
- ㄹ. 조약의 체결 비준 동의권은 (B)에 들어갈 수 있다.

- ① ㄱ, ㄷ ② ㄱ, ㄴ ③ ㄴ, ㄷ ④ ㄴ, ㄹ

문제분석

일반사면 동의권으로서 (다)는 (나)를 견제하므로 (나)는 대통령, (다)는 국회이다. 따라서 (가)는 법원이다.

정답찾기

- ㄴ. (나) 대통령은 (다)국회의 동의를 얻어 헌법재판소장을 임명할 수 있다.
- ㄷ. 법관도 탄핵대상자가 되므로 탄핵소추권으로 국회가 법원을 견제할 수 있다.

오답찾기

- ㄱ. 정당 해산 심판은 헌법재판소가 실시한다.
- ㄹ. 조약의 체결 비준 동의권은 국회가 대통령을 견제하는 수단이다.

정답 ③